

# LOS NÚMEROS DE SEIS Y SIETE CIFRAS.

UMM	CM	DM	UM	U	D	C

## 1.- Relaciona cada número con su descomposición.

434.099	$4UM + 1DM + 8UM + 5U$
490.215	$4CM + 9 DM + 2C + 1D + 5U$
4.505.712	$4CM + 3DM + 4UM + 9D + 9U$
4.018.005	$4UMM + 5CM + 5UM + 7C + 1D + 2U$

## 2.- Fíjate en el valor en unidades de la cifra 5 en cada número. Elige verdadero o falso.

\* 436.587 \_\_ 5C = 500 U

VERDADERO

FALSO

\* 1.564.892 \_\_ 5 CM = 50.000 U

VERDADERO

FALSO

\* 759.783 \_\_ 5 DM = 50.000 U

VERDADERO

FALSO

## 3.- Escribe con letras o con cifras.

- Ochocientos veintitrés mil seiscientos cincuenta y nueve:

\_\_\_\_\_

- Seis millones trescientos sesenta y siete mil trescientos veintiuno:

\_\_\_\_\_

- 325.708:

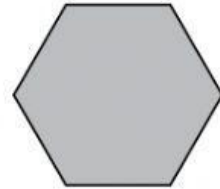
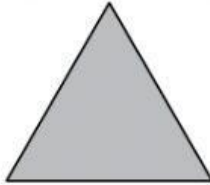

\_\_\_\_\_

- 7.640.932:

\_\_\_\_\_

# POLÍGONOS

4.- Cuenta los lados de cada polígono y escribe sus nombres.



5.- Arrastra y suelta la respuesta correcta debajo de cada triángulo.

Acutángulo  
y equilátero.

Rectángulo  
y escaleno.

Acutángulo e  
isósceles.

Obtusángulo  
y escaleno.

