



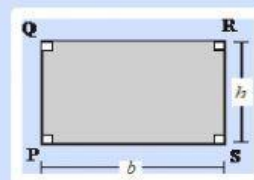
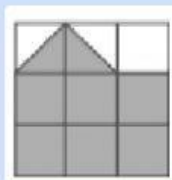
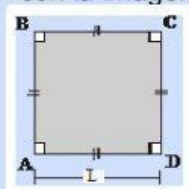
Institución Educativa Privada
CRISTO REDENTOR
SIEMPRE UN PASO ADELANTE
MATEMÁTICA

HOJA DE APLICACIÓN

2º GRADO

ÁREA DE UNA FIGURA

1.- Une con la imagen que corresponde.



Área del rectángulo:
 $b \times h$ (base por altura)

Área del cuadrado:
 $L \times L$ (lado por lado)


Área de una figura: Se halla en unidades cuadradas de un área que puede estar o no

2.- Halla el Área de la siguiente figura.

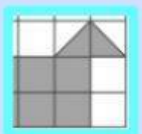
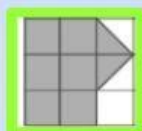
A) 4

B) 16

C) 8



3.- Une y Halla el área de la parte sombreada.



5

6

7

4. Una mesa cuadrada mide 2 m uno de sus lados. ¿Cuánto medirá su área?

2m



RESPUESTA: _____

5. Arrastra los números hacia los círculos y colócalos donde corresponda.

Una alfombra rectangular mide 2 m de altura y 7 m. de base.
¿Cuánto medirá su área?

2

7

