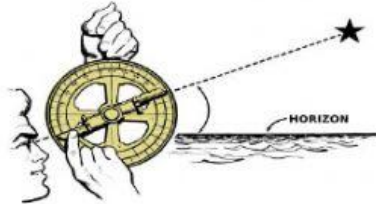


1. Escribe el nombre de cada herramienta que ha facilitado la exploración del Universo.












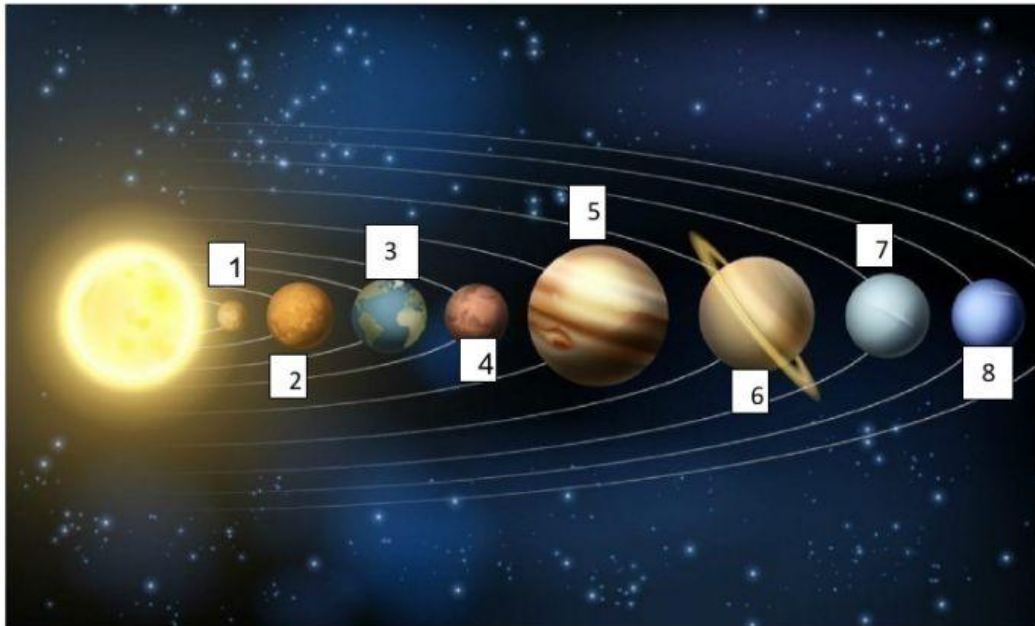








2. Escribe el nombre de los 8 planetas el sistemas solar teniendo en cuenta la distancia al Sol.



- | | | |
|----------|----------|----------|
| 1. _____ | 4. _____ | 7. _____ |
| 2. _____ | 5. _____ | 8. _____ |
| 3. _____ | 6. _____ | |

3. Escribe el nombre de cada parte del telescopio.

