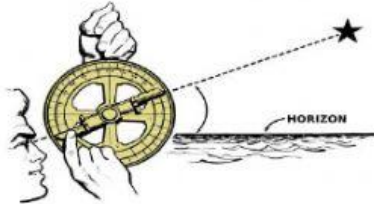


1. Escribe el nombre de cada herramienta que ha facilitado la exploración del Universo.



---




---



---




---



---



---



---

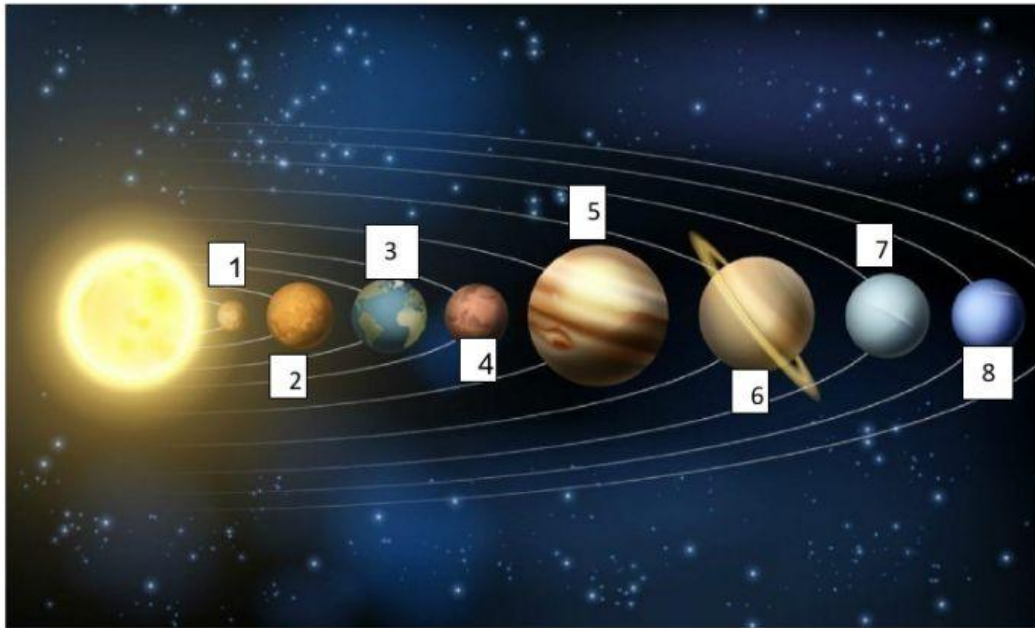


---



---

2. Escribe el nombre de los 8 planetas el sistemas solar teniendo en cuenta la distancia al Sol.



1. \_\_\_\_\_

4. \_\_\_\_\_

7. \_\_\_\_\_

2. \_\_\_\_\_

5. \_\_\_\_\_

8. \_\_\_\_\_

3. \_\_\_\_\_

6. \_\_\_\_\_