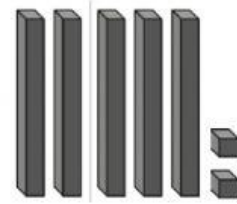

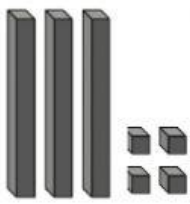
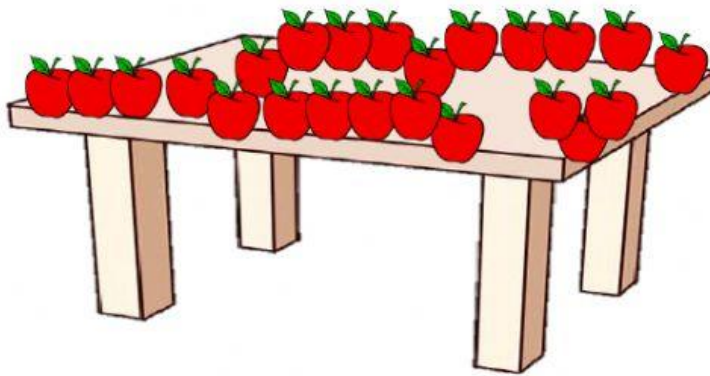


1. ¿Qué cantidades ha representado Ana con sus bloques?
Completa.



2. Fíjate en las manzanas que hay en la mesa y después contesta:




¿Cuántas decenas y unidades de manzanas hay?

3. Observa las estrellas y completa con estas palabras:

pequeña

grande



La estrella de colores es la más

de todas.

La estrella de la izquierda es más

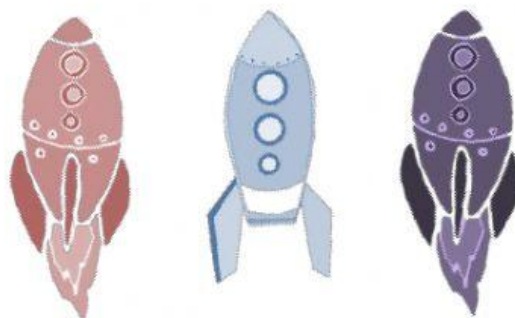
que la de colores.

La estrella de la derecha es la más

de todas.

4. PROBLEMAS:

En una expedición hay cohetes espaciales de tres tipos para que se suban astronautas.



- Si en el cohete rojo caben 16 astronautas y en el cohete azul caben 4 menos, ¿cuántos astronautas caben en el cohete azul?

_____ astronautas	16	_____ astronautas caben en el cohete azul.
_____ menos	$\begin{array}{r} 16 \\ - 4 \\ \hline \end{array}$	

- Si al cohete morado han subido 29 astronautas, ¿cuántos astronautas más caben en el cohete morado que en el cohete rojo?

_____ cohete morado	29	_____ astronautas más caben en el cohete morado.
_____ cohete rojo	$\begin{array}{r} 29 \\ - 16 \\ \hline \end{array}$	