







TEACHER	Lic. Kelly Quispe	GRADE	1 nd GRADE			LESSON 08
SUBJECT	Mathematical Reasoning	CLASSROOM	A1			
LEVEL	PRIMARY	DATE	09	10	20	

PRACTICA CALIFICADA: PROBLEMAS DE SUMAS Y RESTAS

1. Observa el precio de las golosinas que hay en la tienda y ayuda a cada niño a comprar. Luego ayúdalos a sacar la cuenta.

 S/.15	 S/.2	 S/.10	 S/. 6														
 <table border="1" style="display: inline-table; vertical-align: middle;"> <tr><td>D</td><td>U</td></tr> <tr><td> </td><td> </td></tr> <tr><td> </td><td> </td></tr> <tr><td> </td><td> </td></tr> </table> <div style="display: inline-block; vertical-align: middle; text-align: center;">+</div>	D	U							 <table border="1" style="display: inline-table; vertical-align: middle;"> <tr><td>D</td><td>U</td></tr> <tr><td> </td><td> </td></tr> <tr><td> </td><td> </td></tr> <tr><td> </td><td> </td></tr> </table> <div style="display: inline-block; vertical-align: middle; text-align: center;">+</div>	D	U						
D	U																
D	U																
¿Cuánto gastó? soles	¿Cuánto gastó? soles																

2. En la granja de mi tía hay 28 pavos y 13 conejos. ¿Cuántos animales tiene mi tía?.

DATOS	OPERACIÓN	RESPUESTA
pavos = conejos =	+ _____	Mi tía tiene_____ animales en su granja.

- 3.-Carlos tenía 74 nuevos soles para comprar en la juguetería y gastó 53 nuevos soles en un juego de cubos. ¿Cuánto dinero le quedó a Carlos?

DATOS	OPERACIÓN	RESPUESTA
Tenía = Gastó =	- _____	A Carlos le quedo _____ soles.

4. En un salón de clases estudian 48 niños de los cuales 26 son hombres. ¿Cuántas mujeres estudian en ese salón?

DATOS	OPERACIÓN	RESPUESTA
niños = hombres =	- _____	En el salón estudian _____ mujeres.

5. María tenía 68 manzanas y se comió 16. ¿Cuántas manzanas le quedaron?

DATOS	OPERACIÓN	RESPUESTA
Tenía = Comió =	- _____	Quedaron _____ manzanas.