

**NOMBRE:** \_\_\_\_\_ **FECHA:** \_\_\_\_\_  
**ASIGNATURA:** MATEMÁTICA.  
**CURSO:** TERCERO DE BÁSICA. **PARALELO:** \_\_\_\_\_  
**CONSIGNA:** RESOLVER LAS ACTIVIDADES INDICADAS

**1. Completa:**

$$567 = 5 \text{ C} + 6 \text{ D} + 7 \text{ U} = 500 + 60 + 7$$

$$456 = \text{ \_\_\_\_\_\_ } \text{ C} + \text{ \_\_\_\_\_\_ } \text{ D} + \text{ \_\_\_\_\_\_ } \text{ U} = \text{ \_\_\_\_\_\_ } + \text{ \_\_\_\_\_\_ } + \text{ \_\_\_\_\_\_ }$$

$$\text{ \_\_\_\_\_\_ } = 7 \text{ C} + 1 \text{ D} + 5 \text{ U} = \text{ \_\_\_\_\_\_ } + \text{ \_\_\_\_\_\_ } + \text{ \_\_\_\_\_\_ }$$

$$\text{ \_\_\_\_\_\_ } = \text{ \_\_\_\_\_\_ } \text{ C} + \text{ \_\_\_\_\_\_ } \text{ D} + \text{ \_\_\_\_\_\_ } \text{ U} = 900 + 80 + 3$$

$$\text{ \_\_\_\_\_\_ } = 4 \text{ C} + 0 \text{ D} + 7 \text{ U} = \text{ \_\_\_\_\_\_ } + \text{ \_\_\_\_\_\_ } + \text{ \_\_\_\_\_\_ }$$

**2. Resuelve las siguientes sumas y restas.**

$\begin{array}{r} 374 \\ + 568 \\ \hline \end{array}$	$\begin{array}{r} 203 \\ + 189 \\ \hline \end{array}$	$\begin{array}{r} 198 \\ + 506 \\ \hline \end{array}$	$\begin{array}{r} 374 \\ + 280 \\ \hline \end{array}$
<div style="border: 1px dashed red; width: 80px; height: 40px; margin: 5px 0;"></div>	<div style="border: 1px dashed red; width: 80px; height: 40px; margin: 5px 0;"></div>	<div style="border: 1px dashed red; width: 80px; height: 40px; margin: 5px 0;"></div>	<div style="border: 1px dashed red; width: 80px; height: 40px; margin: 5px 0;"></div>
$\begin{array}{r} 777 \\ - 267 \\ \hline \end{array}$	$\begin{array}{r} 324 \\ - 199 \\ \hline \end{array}$	$\begin{array}{r} 812 \\ - 447 \\ \hline \end{array}$	$\begin{array}{r} 963 \\ - 852 \\ \hline \end{array}$
<div style="border: 1px dashed red; width: 80px; height: 40px; margin: 5px 0;"></div>	<div style="border: 1px dashed red; width: 80px; height: 40px; margin: 5px 0;"></div>	<div style="border: 1px dashed red; width: 80px; height: 40px; margin: 5px 0;"></div>	<div style="border: 1px dashed red; width: 80px; height: 40px; margin: 5px 0;"></div>

**3. Escribe los números ordinales**

1° →	trigésimo tercero →
6° →	duodécimo →
21° →	cuadragésimo →
15° →	decimoséptimo →

4. Señala el signo que corresponda. ¡Acuérdate del cocodrilo comilón!

$73 \boxed{\phantom{0}} 31$

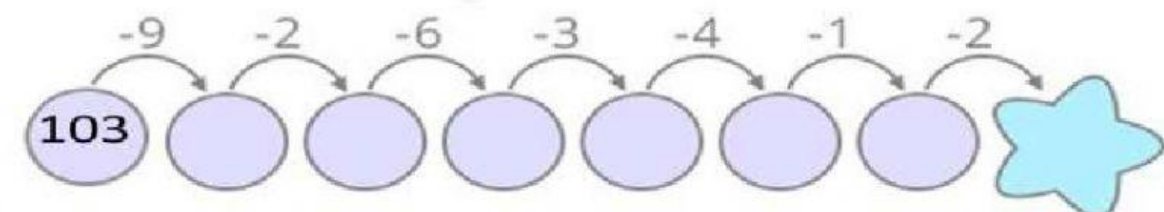
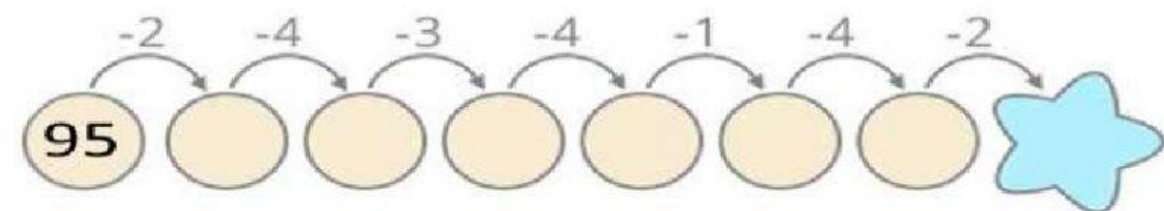
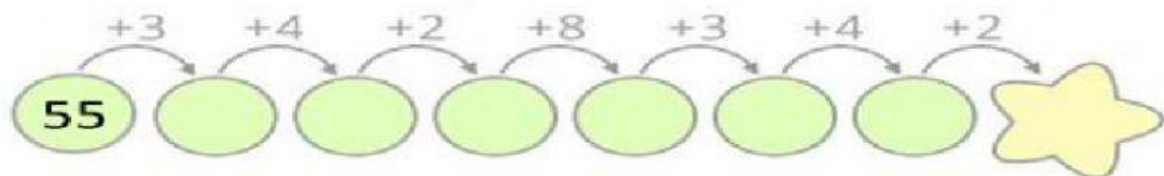
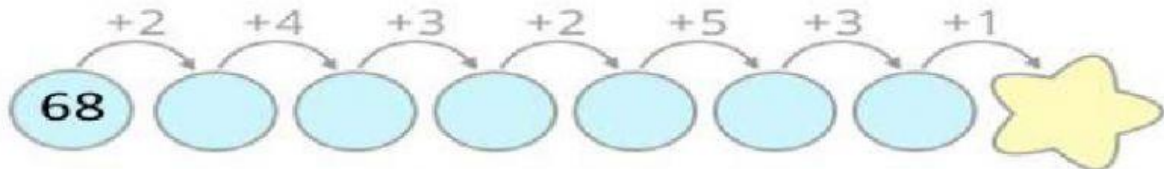
$38 \boxed{\phantom{0}} 68$

$84 \boxed{\phantom{0}} 94$

$75 \boxed{\phantom{0}} 77$

$54 \boxed{\phantom{0}} 72$

5. Completa los patrones numéricos ascendentes y decrecientes



♥ Yo puedo  
 ✨ Yo quiero  
 Yo voy a lograrlo!