




Plantas con semilla importantes del Ecuador

1. Selecciona en qué región de Ecuador se producen las siguientes plantas:

 <p>trigo</p>	 <p>Papaya</p>	 <p>yuca</p>

 <p>canela</p>	 <p>maíz</p>	 <p>plátano</p>

2. Completa el texto con las palabras de los recuadros:



Las _____ naturales en Ecuador tienen mucha importancia. Las _____ y pueblos _____ encontraban en la tierra sus _____ naturales.

En nuestro país están registradas _____ plantas con fines _____.