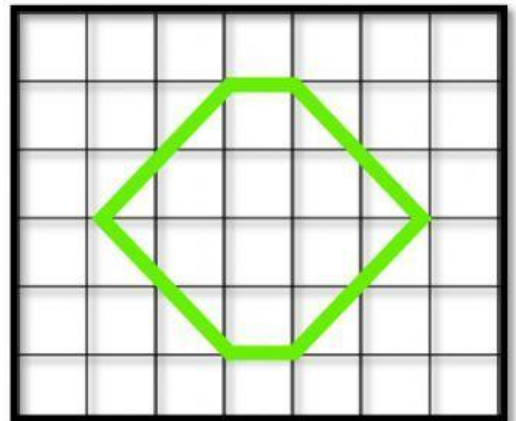
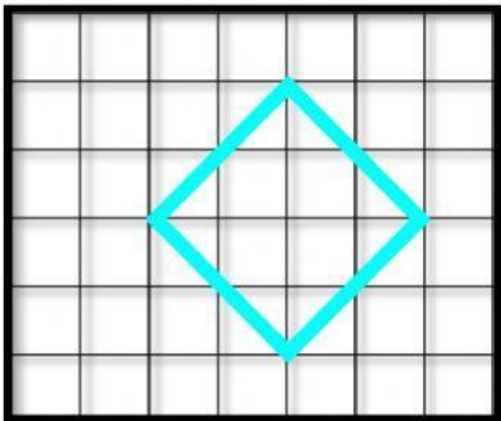
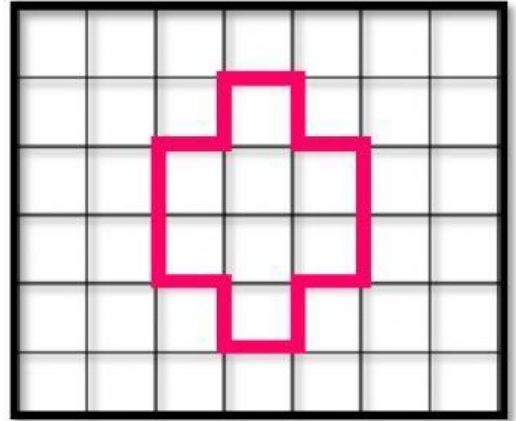
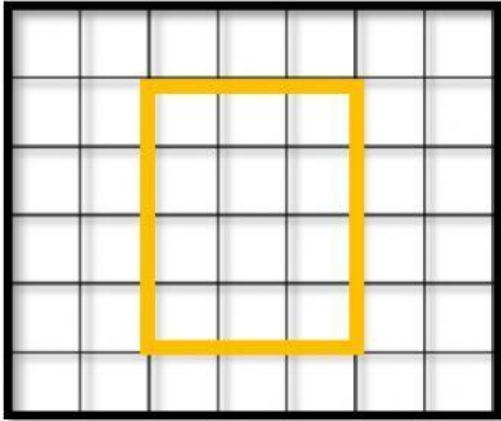


Área y Perímetro

1. Haz clic sobre la opción correcta.



2. Lee, analiza selecciona la opción correcta.

3) ¿Cuánta madera necesito para hacer el marco del cuadro?

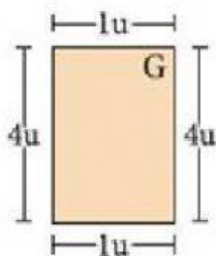


- a. 40 cm
- b. 42 cm
- c. 45 cm

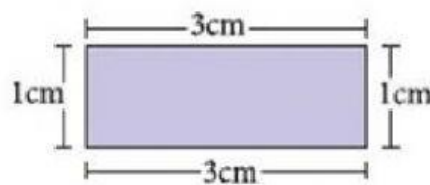
1) ¿Cuántos metros recorrerá el niño para dar la vuelta al parque?



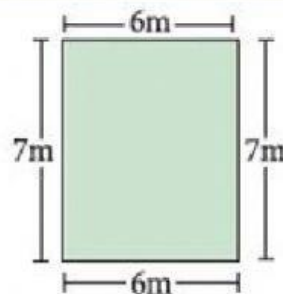
- a. 30 m
- b. 31 m
- c. 32 m



- a. 8 u
- b. 10 u
- c. 12 u



- a. 8 cm
- b. 10 cm
- c. 12 cm



- a. 22 m
- b. 24 m
- c. 26 m

