

Mã+εMá+icã

Atividade 26

Tema: Como marcar o tempo

Data: 08 10 2020

Nome: Turma:

Vídeo de hoje!



1) Sobre o vídeo assistido responda corretamente os itens abaixo.

- a) Em um ano tem quantos dias aproximadamente?
- b) Em um ano tem quantos meses?
- c) Em um ano tem quantos semestres?
- d) Em um ano tem quantos bimestres?
- e) Em um dia tem quantas horas?
- f) Em um ano bissexto tem quantos dias?

2) Relacione corretamente as respostas com as alternativas abaixo.

Atenção!!!

➤ Para responder basta arrastar e soltar no lugar correto.

- a) 70 minutos representa quantas horas?
- b) 120 minutos representa quantas horas?
- c) 4h 40 min representa quantos minutos?
- d) Uma pessoa saiu de casa às 07h e voltou às 16h.
Quantas horas ela passou fora de casa?
- e) De quanto em quanto tempo acontece o ano bissexto?
- f) João nasceu no ano bissexto e tem 10 anos de idade.
Quantos anos ele teria se não tivesse nascido no ano bissexto?
- g) Em um minuto possui quantos segundos?

4 anos	2 horas	1h 10 min
40 anos	9 horas	
60 segundos	280 minutos	

3) Relacione corretamente a hora com o relógio.

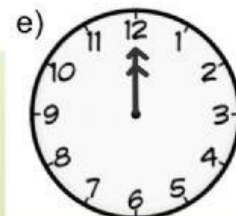
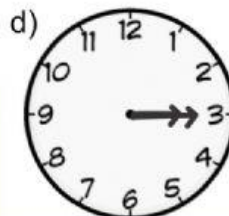
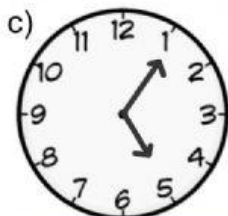
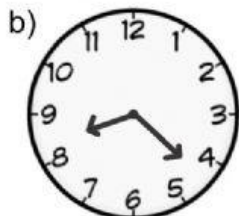
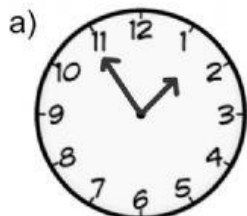
Manhã

Manhã

Tarde

Tarde

Noite



17h 06 min

0 horas

8h 23 min

1h 55 min

15h 15 min