

EVALUACIÓN MATEMÁTICA

PARCIAL 1 - 4TO EGB

Nombre:

Fecha:

1.- Escucha y seleccione la cantidad correcta.



2.- Escribe en letras los siguientes números.

2 020 →

15 750 →

100 800 →

1 599 →

404 003 →

3.- Une con líneas según corresponda.

$$4 \text{ Um} + 5 \text{ d}$$

50 400

$$7 \text{ 000} + 500 + 0 + 7$$

40 500

$$3 \text{ Cm} + 4 \text{ Um} + 7 \text{ c}$$

4 050

$$50 \text{ 000} + 0 + 400 + 0 + 0$$

7 507

$$4 \text{ Dm} + 5 \text{ c}$$

304 700

4.- Lee las siguientes oraciones y elige (V) si es verdadero o (F) si es falso.




	Una decena tiene 10 000 unidades.
	Cinco centenas equivalen a 500 unidades.
	Cm significa centena de mil
	Una decena de mil tiene 10 000 unidades
	Tres unidades de mil equivalen a 300 unidades

5.- Arrastra las cantidades en el lugar correcto de las siguientes semirrectas numéricas.





1500 300 3000 150 350 2500 2000



6.- Escribe el antecesor y sucesor de cada cantidad.




<input type="text"/>	70	<input type="text"/>		<input type="text"/>	200	<input type="text"/>
<input type="text"/>	1005	<input type="text"/>		<input type="text"/>	555	<input type="text"/>
<input type="text"/>	499	<input type="text"/>		<input type="text"/>	4000	<input type="text"/>
	<input type="text"/>	719	<input type="text"/>		<input type="text"/>	
	<input type="text"/>	8999	<input type="text"/>			
	<input type="text"/>	51 333	<input type="text"/>			

7.- Arrastra las siguientes cantidades y ordénalas ascendentemente.

43 200	4 300	3 400	23 400	34 900
				

8.- Une con líneas según corresponda

Recta
Semirrecta
Segmento

9.- Selecciona la respuesta correcta.

A. UN AÑO TIENE:

- 30 DÍAS
- 365 DÍAS
- 12 DÍAS

D. UNA DÉCADA EQUIVALE A:

- 10 AÑOS
- 10 SIGLOS
- 10 DÍAS

B. UN LUSTRO EQUIVALE A:

- 10 AÑOS
- 5 AÑOS
- 5 DÍAS

E. UN SIGLO SON:

- 100 DÍAS
- 100 AÑOS
- 10 AÑOS

C. 100 AÑOS SON:

- 10 DÉCADAS
- 1 DÉCADA
- 10 SIGLOS

F. 15 AÑOS EQUIVALEN A:

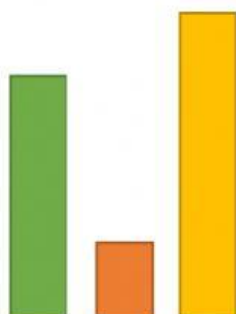
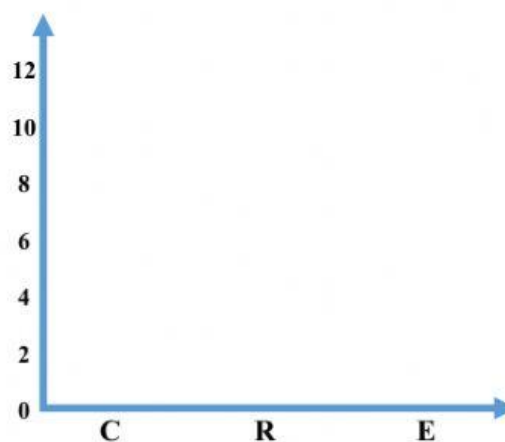
- 3 DÉCADAS
- 3 LUSTROS
- 1 DÉCADA Y 3 LUSTROS

10.- Observa la siguiente información en la tabla de frecuencias y forma el gráfico de barras.

Juegos tradicionales
practicados por los
estudiantes de cuarto Año



Juegos tradicionales	Frecuencia
Canicas	11
Rayuela	9
Ensacados	3
Muestra	23



Realizado por
Lic. Jorge Vaca G.
2020