

EVALUACIÓN MATEMÁTICA

PARCIAL 1 - 3RO EGB

Nombre:

Fecha:

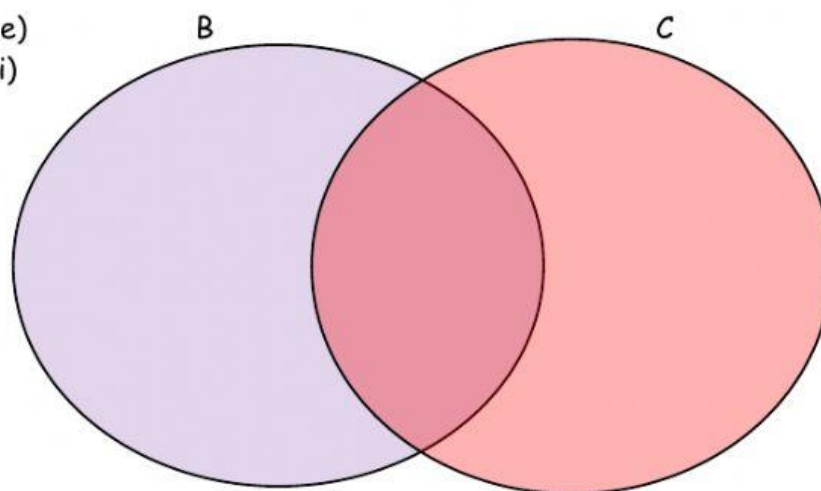
1.- Selecciona V o F según corresponda.

	No importa si un conjunto no tiene letra mayúscula.
	Las aves pertenecen al conjunto universo plantas.
	Conjunto es la reunión de elementos que comparten una misma característica.
	Subconjunto es un grupo de elementos que son parte de un conjunto universo.
	Los números ordinales indican orden o posición.
	Las medidas de tiempo miden las distancias.
	La recta tiene inicio y tiene fin
	El pictograma es una representación gráfica de una situación cotidiana.

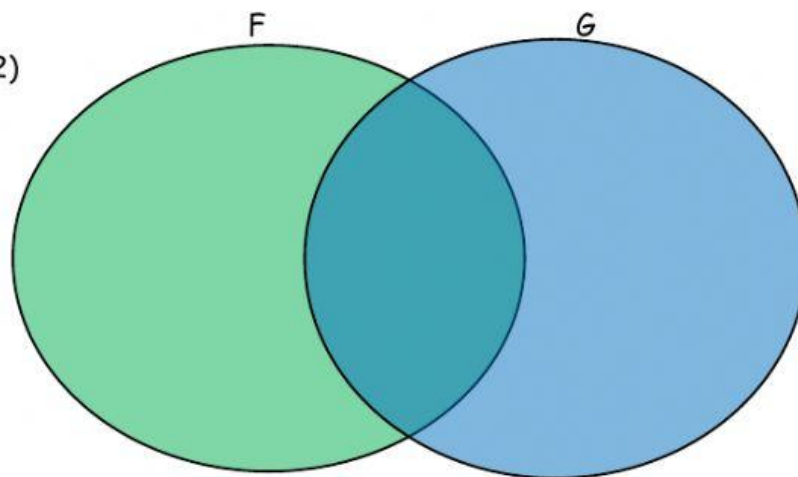
2.- Realiza la unión de los siguientes conjuntos en el Diagrama de Venn.

$B = (a, b, c, d, e)$

$C = (e, f, g, h, i)$



$F = (3, 6, 9, 12, 15)$
 $G = (2, 4, 6, 8, 10, 12)$



3.- Arrastra en orden de izquierda a derecha los elementos del conjunto Universo para formar dos subconjuntos.

U =



$R = \{ \quad \quad \quad \}$

$A = (\quad \quad \quad)$

4.- Completa la tabla de los números ordinales.

No.	Se lee:	No.	Se lee:
15.º		29.º	
	Décimo segundo		Vigésimo primero
32.º		36.º	

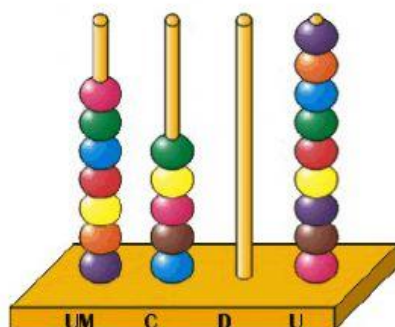
5.- Completa la tabla de descomposición numérica.

SISTEMA DE BASE 10				
CANTIDAD	UM	C	D	U
	1000	100	10	1
5 404	5000	400	0	4
1 900				
8 653				
2 019				

6.- Completa la tabla a continuación.

Um	C	D	U	Se lee:
	1	0	5	Ciento cinco.
				Trescientos ochenta.
7	7	0	7	
				Nueve mil cuatrocientos siete.


7.- Selecciona la respuesta correcta que se forma en el ábaco y base 10.



a) 9 057

b) 759

c) 7 509



a) 2 653

b) 5 563

c) 265

8.- Une con líneas según corresponda

Recta	
Semirrecta	$r \longleftrightarrow$
Segmento	$A \text{---} B$
Punto	$C \text{---} D$
Plano	

9. - Selecciona la respuesta correcta.

a. Un año tiene:

- 30 días
- 365 días
- 12 días

d. Una hora tiene:

- 60 minutos
- 60 segundos
- 60 días

b. Una semana tiene:

- 7 días
- 30 días
- 24 días

e. Un mes tiene:

- 30 días
- 7 días
- 365 días

c. Un día tiene:

- 12 horas
- 30 horas
- 24 horas

f. Un año tiene:


- 24 meses
- 12 meses
- 7 meses

10.- Lee la siguiente información y arrastra los pictogramas según corresponda:



Tema: Carros de juguete			
Escala:  = tres carros			
Niños	Cantidad		
Darío	9	Darío	
Edgar	9	Edgar	
Alfonso	6	Alfonso	



Tema: Cuentos leídos			
Escala:  = cinco cuentos			
Niñas lectoras	Cantidad		
Carmen	10	Carmen	
Rocío	25	Rocío	
Isabel	15	Isabel	



Realizado por
Lic. Jorge Vaca G.
2020