



**ESCUELA DE EDUCACIÓN BÁSICA  
"SEÑOR DE LA BUENA ESPERANZA"**

**EXAMEN DEL I QUIMESTRE  
MATEMÁTICA  
2DO. GRADO "A"**

**NOMBRE:** \_\_\_\_\_  
**DOCENTE:** LCDO. HENRY MORÁN ALCIVAR

**Seleccione la respuesta correcta**

**1. El número mayor de 6 y menor de 10 es:**

- A. 4**
- B. 6**
- C. 8**
- D. 12**

**2. ¿Qué decenas puras faltan en la semirrecta?**



- A. 30, 60, 90**
- B. 40, 70, 90**
- C. 10, 40, 90**
- D. 20, 30, 80**



**ESCUELA DE EDUCACIÓN BÁSICA  
“SEÑOR DE LA BUENA ESPERANZA”**

**3. Un conjunto es:**

- A. La formación de letras**
- B. Unión de varios elementos**
- C. La suma de dos números**
- D. La resta de números**

**4. El número ordinal de 8 es:**

- A. Primero**
- B. Tercero**
- C. Noveno**
- D. Octavo**

**5. ¿Cómo se descompone el 98?**

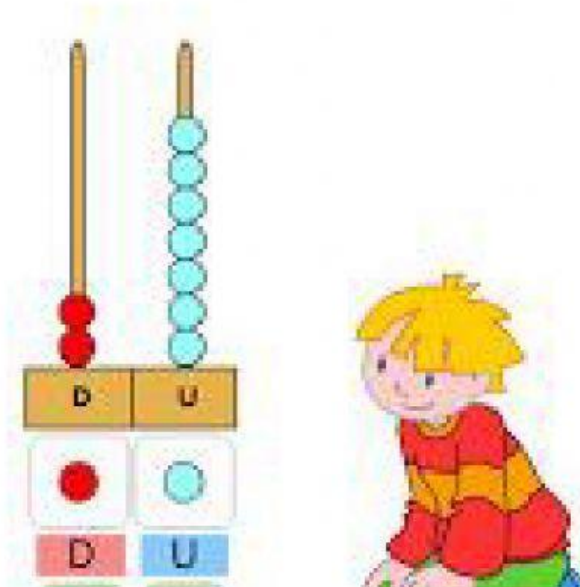
- A. 8 decenas y 9 unidades**
- B. 8 decenas y 8 unidades**
- C. 9 decenas y 9 unidades**
- D. 9 decenas y 8 unidades**



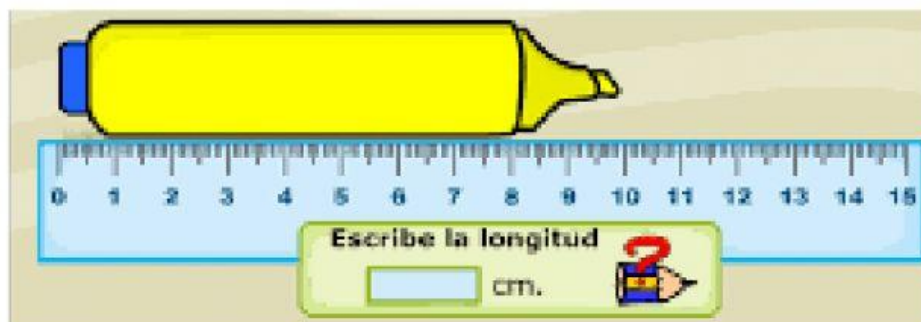
**ESCUELA DE EDUCACIÓN BÁSICA  
“SEÑOR DE LA BUENA ESPERANZA”**

6. ¿Qué número está representado en el ábaco?

- A. 72
- B. 82
- C. 27
- D. 37



7. Observe la imagen y escoja la medida del marcador

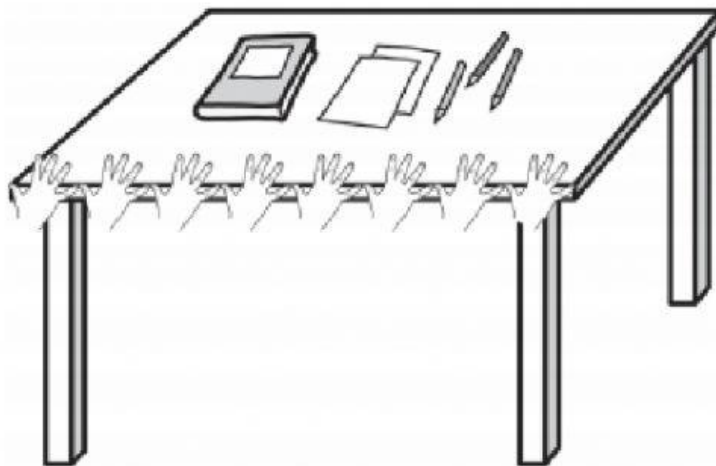


- A. 8 cm
- B. 7 cm
- C. 10 cm
- D. 12cm



**ESCUELA DE EDUCACIÓN BÁSICA  
“SEÑOR DE LA BUENA ESPERANZA”**

**8. ¿Cuántas cuartas mide el largo de la mesa?**



**A. 6**

**B. 10**

**C. 8**

**D. 12**

**9. En una escuela llegaron 25 niños y 42 niñas a una charla ¿Cuántos  
llegaron en total?**

**A. 77**

**B. 87**

**C. 67**

**D. 97**

**10. ¿Cuál es el número mayor?**

**A. 20**

**B. 30**

**C. 50**

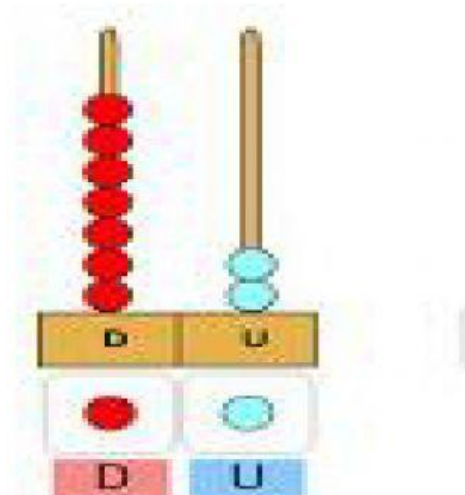
**D. 10**



**ESCUELA DE EDUCACIÓN BÁSICA  
“SEÑOR DE LA BUENA ESPERANZA”**

**11. ¿Qué número representa el ábaco?**

- A. 52
- B. 72
- C. 27
- D. 25



**12. ¿Cuántos lápices hay en la imagen?**

- A. Una decena y tres unidades
- B. Una decena y seis unidades
- C. Una decena y cuatro unidades
- D. Una decena y cinco unidades





**ESCUELA DE EDUCACIÓN BÁSICA  
“SEÑOR DE LA BUENA ESPERANZA”**

**13. Un cuerpo geométrico de cara plana es:**

- A. Cono**
- B. Pirámide**
- C. Bola**
- D. Esfera**

**14. Paula tiene 8 peces y regaló 5 ¿Cuántos peces le quedan?**

- A. 3 peces**
- B. 2 peces**
- C. 4 peces**
- D. 6 peces**

**15. ¿Cuántos ángulos, vértices y lados tiene la siguiente figura geométrica?**

- A. 4 lados, 3 ángulos y 4 vértices**
- B. 3 lados, 3 ángulos y 3 vértices**
- C. 3 lados, 4 vértices y 3 ángulos**
- D. 4 lados, 4 vértices y 4 ángulos**













**ESCUELA DE EDUCACIÓN BÁSICA  
“SEÑOR DE LA BUENA ESPERANZA”**

**16. En la tabla de frecuencia que fruta hay más**

- A. Manzana**
- B. Banana**
- C. Frutilla**
- D. Uva**

|   | Cantidad - Representación Gráfica   | Número |
|---|---|--------|
|  |  | 4      |
|  |  | 3      |
|  |  | 2      |
|  |  | 1      |

**17.El resultado de  $96 - 25$  es:**

- A. 11**
- B. 61**
- C. 51**
- D. 71**

**18.¿Cuál es el orden de mayor a menor longitud de las medidas?**

Un paso

Un pie

Una cuarta

- A. Paso, pie, cuarta de una misma persona.**
- B. Paso, cuarta, pie de una misma persona.**
- C. Cuarta, pie, paso de una misma persona.**
- D. Pie, paso, cuarta de una misma persona.**





**ESCUELA DE EDUCACIÓN BÁSICA  
“SEÑOR DE LA BUENA ESPERANZA”**

**19. Analice la tabla y escoja la opción correcta**

| <b>Equipo favorito</b> | <b>Frecuencia</b> |
|------------------------|-------------------|
| <b>EMELEC</b>          | <b>12</b>         |
| <b>LIGA DE QUITO</b>   | <b>9</b>          |
| <b>NACIONAL</b>        | <b>5</b>          |
| <b>BARCELONA</b>       | <b>29</b>         |

- A. 9 prefieren a Emelec**
- B. 5 prefieren a Liga**
- C. 12 prefieren a Nacional**
- D. 29 prefieren a Barcelona**

**20. 3 decenas y 8 unidades forman el número:**

- A. 83**
- B. 28**
- C. 82**
- D. 38**