

ACERTIJOS MATEMÁTICOS CON MOSTRUOS

9 ¿Cuál es el valor de cada monstruo?

$$\text{Blue Monster} \cdot \text{Orange Monster} = 27$$

	
---	--

$$\text{Blue Monster} : \text{Orange Monster} = 2$$

	
---	--

$$\text{Blue Monster} + \text{Green Monster} = 15$$


	
---	--

10 ¿Cuál es el valor de cada monstruo?

$$\text{Blue Monster} \cdot \text{Orange Monster} = 30$$

	
---	--

$$\text{Blue Monster} + \text{Green Monster} = 13$$

	
---	--

$$\text{Green Monster} - \text{Orange Monster} = 2$$


	
---	--

11 ¿Cuál es el valor de cada monstruo?

$$\text{Blue Monster} \cdot \text{Yellow Monster} = 24$$

	
---	--

$$\text{Yellow Monster} + \text{Green Monster} = 14$$

	
---	--

$$\text{Green Monster} : \text{Blue Monster} = 2$$


	
--	--

12 ¿Cuál es el valor de cada monstruo?

$$\text{Green Monster} \cdot \text{Purple Monster} = 40$$

	
---	--

$$\text{Green Monster} + \text{Orange Monster} = 9$$

	
---	--

$$\text{Purple Monster} : \text{Orange Monster} = 2$$

	
--	--

13 ¿Cuál es el valor de cada monstruo?

$$\text{Purple Monster} \cdot \text{Yellow Monster} = 28$$

	
---	--

$$\text{Orange Monster} - \text{Purple Monster} = 2$$


	
---	--

$$\text{Orange Monster} - \text{Yellow Monster} = 5$$

	
---	--

14 ¿Cuál es el valor de cada monstruo?


$$\text{Pink Monster} \cdot \text{Purple Monster} = 45$$

	
---	--

$$\text{Purple Monster} + \text{Yellow Monster} = 8$$

	
---	--

$$\text{Pink Monster} - \text{Yellow Monster} = 6$$

	
---	--

15 ¿Cuál es el valor de cada monstruo?

$$\text{Teal Monster} \cdot \text{Yellow Monster} = 30$$

	
---	--

$$\text{Yellow Monster} + \text{Red Monster} = 13$$

	
---	--

$$\text{Red Monster} - \text{Teal Monster} = 2$$

	
---	--

16 ¿Cuál es el valor de cada monstruo?

$$\text{Blue Monster} \cdot \text{Green Monster} = 32$$

	
---	--

$$\text{Blue Monster} - \text{Red Monster} = 5$$

	
---	--

$$\text{Green Monster} - \text{Red Monster} = 1$$

	
---	--