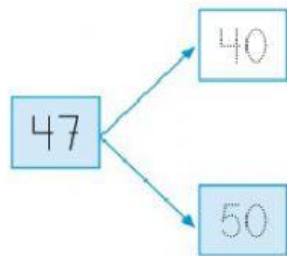
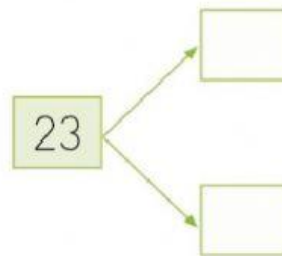


## Aprendo los números Aproximación a la decena

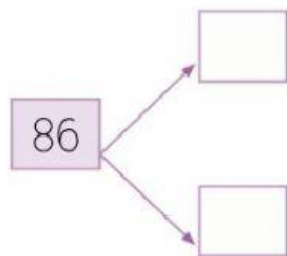
- 1 ¿Entre qué dos decenas se encuentran estos números? Colorea la más cercana en cada caso y completa.



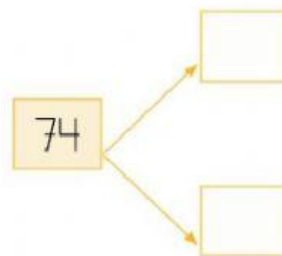
El número 47 se aproxima al número 50.



El número 23 se aproxima al número .....



El número 86 se aproxima al número .....



El número 74 se aproxima al número .....

- 2 Observa y completa.



El ● indica el número ..... Está entre el 30 y el ..... Se aproxima al número .....

El ● indica el número ..... Está entre el ..... y el ..... Se aproxima al número .....