





Clase sincrónica

Repaso para la prueba

Arrastra hacia cada ejercicio el dibujo del resultado correspondiente. Al finalizar, podrás descubrir una hermosa imagen.

¿Qué signo corresponde < o >? 3 ____ 9	¿Qué signo corresponde < o >? 8 ____ 2
¿Cuál es el antecesor de 7?	¿Cuál es el sucesor de 4?

 <	 5
 6	 >