

¿LAS PLANTAS TIENEN VIDA?


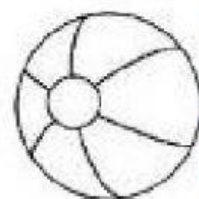
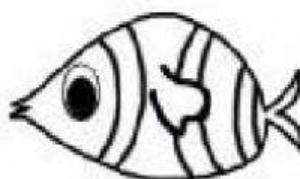


SEMANA 27
DÍA 1

1. MARCELO OBSERVÓ DIVERSOS SERES CON VIDA EN SU CAMINO A CASA. AYÚDALO A CLASIFICARLOS E INDICA SI ESTÁN CON VIDA O SIN VIDA Y POR QUÉ.



<u>¿QUÉ VIO?</u>	<u>¿CON VIDA?</u>	<u>¿SIN VIDA?</u>	<u>¿POR QUÉ?</u>
ROSAS	¿CON VIDA?	¿SIN VIDA?	
PERRO	¿CON VIDA?	¿SIN VIDA?	
PALOMAS	¿CON VIDA?	¿SIN VIDA?	
MESA	¿CON VIDA?	¿SIN VIDA?	
ÁRBOL	¿CON VIDA?	¿SIN VIDA?	
ELEFANTE DE JUGUETE	¿CON VIDA?	¿SIN VIDA?	

2. SELECCIONA LOS SERES VIVOS.



**EN TU CUADERNO DE CIENCIA Y
TECNOLOGÍA:**

**ESCRIBE Y DIBUJA CUÁL ES EL
CICLO DE VIDA DE LAS PLANTAS.**

