




SD NEGERI 01 PENDOPO




LEMBAR KERJA PESERTA DIDIK KELAS 2.C

Nama	
Kelas	

Contoh :

Benda	Bilangan
	0

$$0 \times 6 = 0$$

	8
---	---

$$4 \times 2 = 2+2+2+2 = 8$$











Amati dan isilah tabel berikut!

Dengarkan penjelasan gurumu terlebih dahulu!

x	0	1	2	3	4	5	6	7	8	9	10
0	0	0	0	0	0	0	0	0	0	0	0
1	0	1	2	3	4	5	6	7	8	9	10
2	0	2	4	6	8	10	12	14	16	18	20
3	0	3	6	9	12	15	18	21	24	27	30
4	0	4	8	12	16	20	24	28	32	36	40
5	0	5	10	15	20	25	30	35	40	45	50
6	0	6	12	18	24	30	36	42	48	54	60
7	0	7	14	21	28	35	42	49	56	63	70
8	0	8	16	24	32	40	48	56	64	72	80
9	0	9	18	27	36	45	54	63	72	81	90
10	0	10	20	30	40	50	60	70	80	90	100

Amati dan isilah tabel berikut!

Dengarkan penjelasan gurumu terlebih dahulu!

×	0	1	2	3	4	5	6	7	8	9	10
0	0	0	0	0	0	0		0	0	0	0
1	0	1	2	3		5	6	7	8		10
2	0	2	4	6	8	10	12	14	16	18	20
3	0	3	6	9	12	15	18	21	24	27	30
4	0	4		12	16	20	24	28	32	36	40
5	0	5	10	15	20	25	30	35	40	45	50
6	0	6	12	18	24	30		42	48	54	60
7	0		14	21	28	35	42		56	63	70
8	0	8	16		32	40	48	56	64	72	80
9	0	9	18	27	36	45	54	63		81	90
10	0	10	20	30		50	60	70	80	90	100

Pindahkan angka di bawah ini pada kotak yang tertutup benda, sesuai dengan hasil perkaliannya!

4	9	7	24
36	49	40	72

✓