



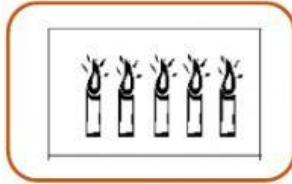


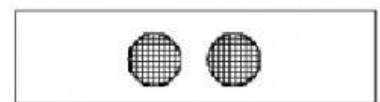

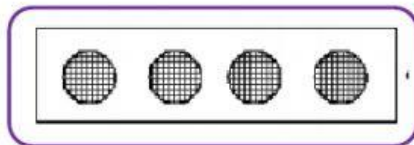

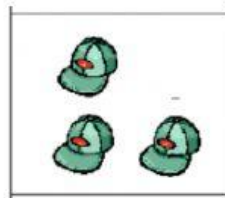
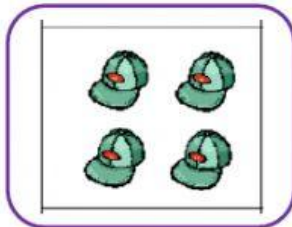
## ¡DEMUESTRO LO APRENDIDO!

Nombre:

I. Marca el doble de las siguientes figuras:




II. Marca la mitad de las siguientes figuras:



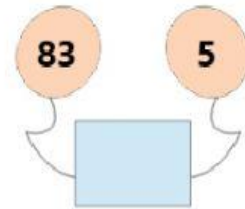
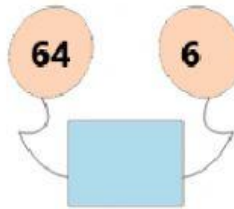
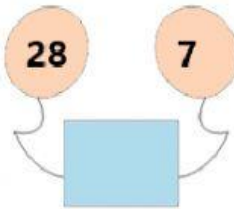
III. Ordenas las edades de mayor a menor.



IV. Completa las secuencias del siguiente patrón creciente:



V. Encuentra el número que falta:



VI. Calcula las siguientes restas:

$$\begin{array}{r} 98 - \\ 56 \\ \hline \square \end{array}$$

$$\begin{array}{r} 75 - \\ 13 \\ \hline \square \end{array}$$

$$\begin{array}{r} 99 - \\ 64 \\ \hline \square \end{array}$$

$$\begin{array}{r} 97 - \\ 26 \\ \hline \square \end{array}$$

VII. Calcula las siguientes sumas:

$$\begin{array}{r} 71 + \\ 28 \\ \hline \square \end{array}$$

$$\begin{array}{r} 42 + \\ 27 \\ \hline \square \end{array}$$

$$\begin{array}{r} 49 + \\ 30 \\ \hline \square \end{array}$$

$$\begin{array}{r} 25 + \\ 64 \\ \hline \square \end{array}$$

**VIII. Busca los datos en los dibujos y marca la respuesta correcta:**



65 puntos



74 puntos



25 puntos



13 puntos

¿Cuántos puntos necesita Rodrigo para canjear el auto y el libro?



77

78

79

Carla quiere canjear la pelota y la muñeca. ¿Cuántos puntos necesita?



96

97

99