





PLANO CARTESIANO CON NÚMEROS DECIMALES

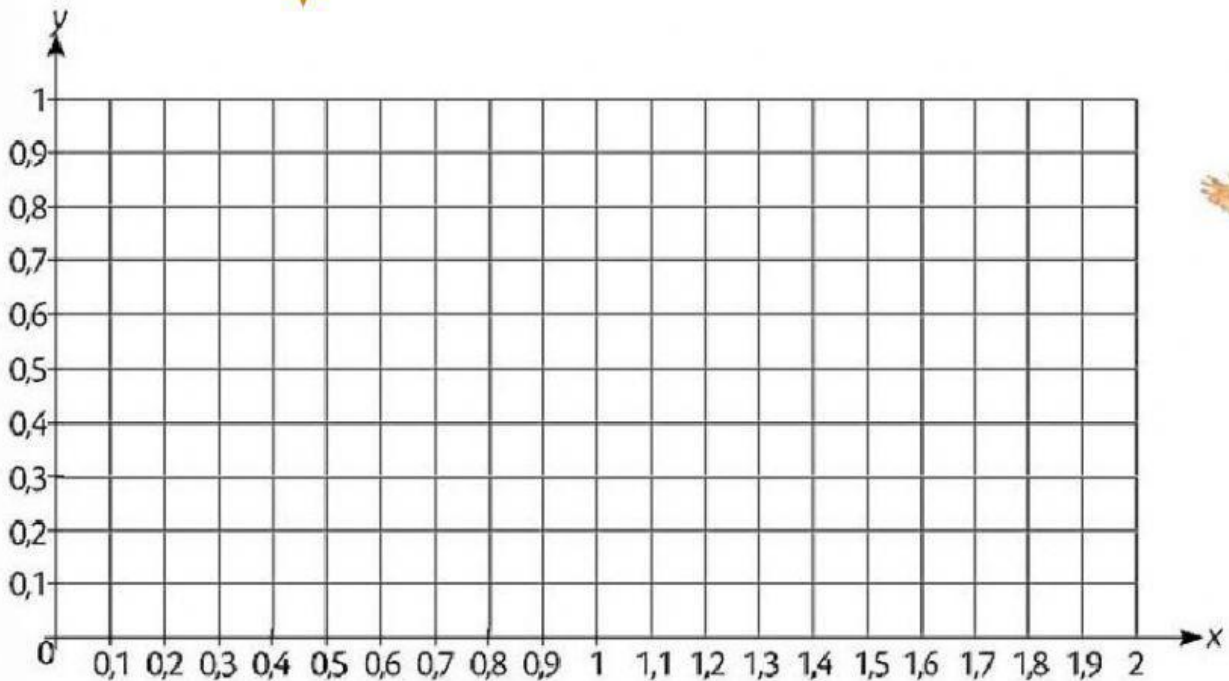
1.- Arrastre cada una de las figuras en el plano cartesiano según corresponda cada coordenada.

A (^x 1,3 : ^y 0,5) 

B (0,7 : 0,3) 

C (2 : 0,9) 

D (1,6 : 0,4) 



2.- En la siguiente coordenada escriba cual es el número entero y cuál es el número decimal

(6,7)

Número.....

Número.....

3.-Escribe las decimas entre los números 3 al 4 y arrastra la figura de la coordenada en la semirrecta

(3,7)

