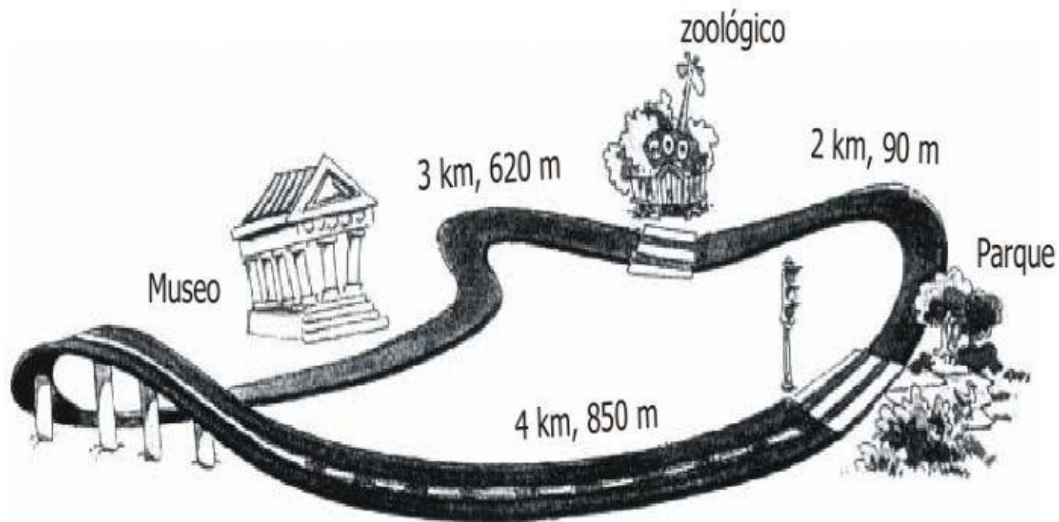


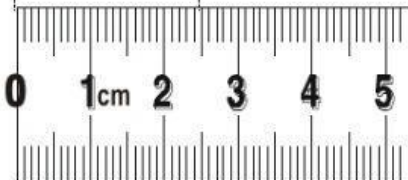
MEDIDAS DE LONGITUD

1. Señala las medidas de las distancias que de cada lugar que se indica, recuerda sólo se puede avanzar no retroceder.

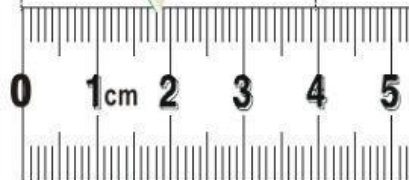



- Del museo al parque ____ km y ____ m
- Camino del zoológico al museo ____ km y ____ m
- Camino del parque al zoológico ____ km y ____ m


1. Observa cuánto miden estos objetos y completa.



____ cm ____ mm



____ cm ____ mm



____ cm ____ mm