









Guía 2 Ubiquemos cantidades

1.- Escribe la cantidad que representan cada uno los siguientes arreglos

						
<input type="text"/> centenas	+	<input type="text"/> decenas	+	<input type="text"/> unidades		

						
<input type="text"/> centenas	+	<input type="text"/> decenas	+	<input type="text"/> unidades		

						
<input type="text"/> centenas	+	<input type="text"/> decenas	+	<input type="text"/> unidades		