

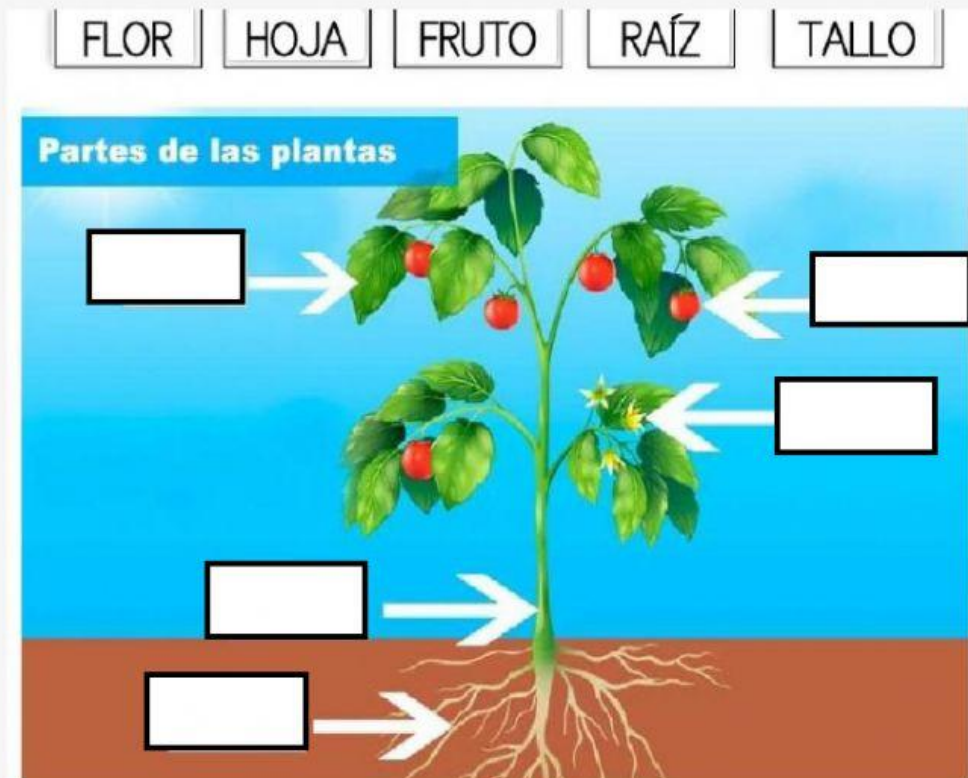
EVALUACIÓN DE CIENCIAS NATURALES

IQ

Nombre:

Fecha:

1. Arrastra cada nombre al lugar correspondiente señalado en el gráfico.

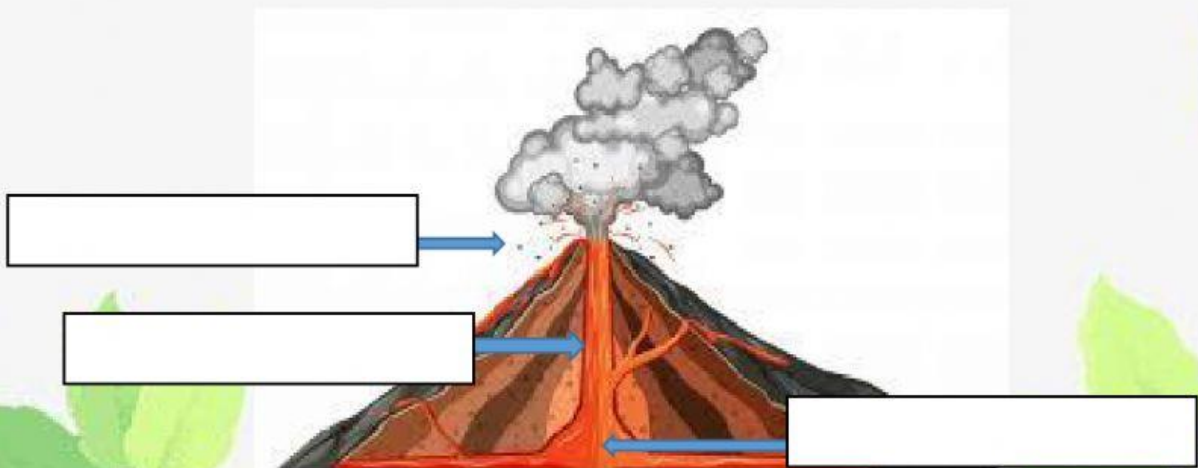


2. Observa la figura y reconoce las partes de un volcán. Ubica los nombres en el lugar que corresponde.

Magma

Cráter

Chimenea



3. Mira la lista desplegable y escoge la opción correcta a cada enunciado.

Los animales invertebrados son aquellos que

Los gusanos son animales y pueden ser

Los moluscos, las medusas y las esponjas

4. Escribe el número del 1 al 5 siguiendo la secuencia de la cadena alimenticia.

Descomponedores

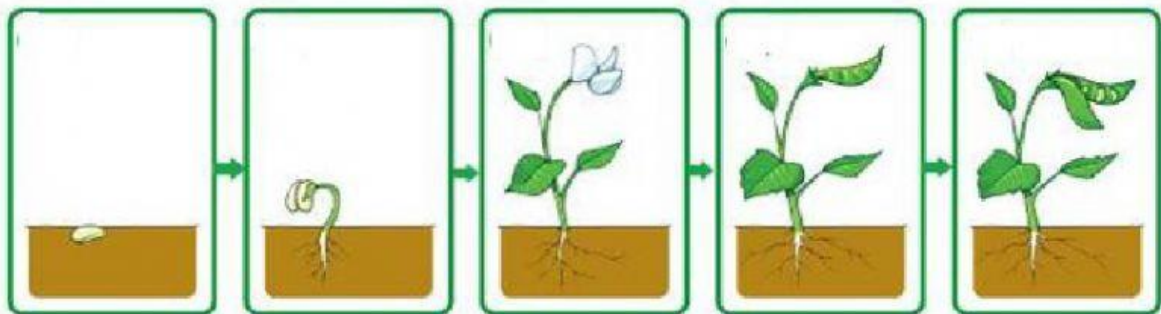
Consumidores Terciarios

Consumidores Secundarios

Consumidores Primarios

Productores

5. Numera las oraciones siguiendo lo que muestran las imágenes.



Salen las flores que se convertirán en frutos.

La planta crece.

De la semilla nace una planta pequeña.

En los frutos se forman las semillas.

La semilla cae al suelo húmedo.