






Nama Peserta Didik :

Nomor Absen :

1. Lengkapilah perbandingan berikut.

Untuk menambah pemahaman kamu tentang perbandingan, lengkapi perbandingan berikut.

1. 	Perbandingan banyaknya topi terhadap jumlah tas dan topi adalah ... : ...
2. 	Perbandingan banyaknya sepeda terhadap jumlah semua kendaraan adalah ... : ...
3. 	Perbandingan banyaknya jeruk terhadap jumlah apel dan jeruk adalah ... : ...
4. 	Perbandingan banyaknya kaus terhadap banyaknya kaus dan rok adalah ... : ...
5. 	Perbandingan banyaknya tomat terhadap banyaknya stroberi adalah ... : ...

Scanned by TapScanner

2. Isilah table perbandingan dibawah ini.

Siswa Perempuan	Siswa Laki-Laki	Keterangan
3	2	Ketika ada 3 perempuan maka ada 2 laki-laki.
6	4	Ketika ada 6 perempuan maka ada 4 laki-laki.
9	...	Ketika ada 9 perempuan maka ada ... laki-laki.
12	...	Ketika ada 12 perempuan maka ada ... laki-laki.
15	...	Ketika ada 15 perempuan maka ada ... laki-laki.
18	...	Ketika ada 18 perempuan maka ada ... laki-laki.

Scanned by TapScanner

3. Kerjakanlah soal dibawah ini.



Ayo Berlatih 3.1

Kerjakan soal-soal berikut.

1. Isilah titik-titik berdasarkan hasil pengukuran berat berikut.




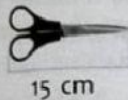
berat kol = 1 kg

berat labu = 4 kg

Perbandingan berat kol dengan berat labu adalah ... : ...

Perbandingan berat labu dengan berat kol adalah ... : ...

2. Isilah titik-titik berdasarkan hasil pengukuran panjang berikut.



Perbandingan panjang gunting dengan ikat pinggang adalah ... : ...

Perbandingan panjang ikat pinggang dengan gunting adalah ... : ...

3. Lengkapilah perbandingan banyak benda berikut.



Benda	Perbandingan
burung dengan kupu-kupu	1 : 2
sapi dengan ikan	... : ...
ayam dengan sapi	... : ...
kupu-kupu dengan ayam	... : ...
ikan dengan kupu-kupu	... : ...