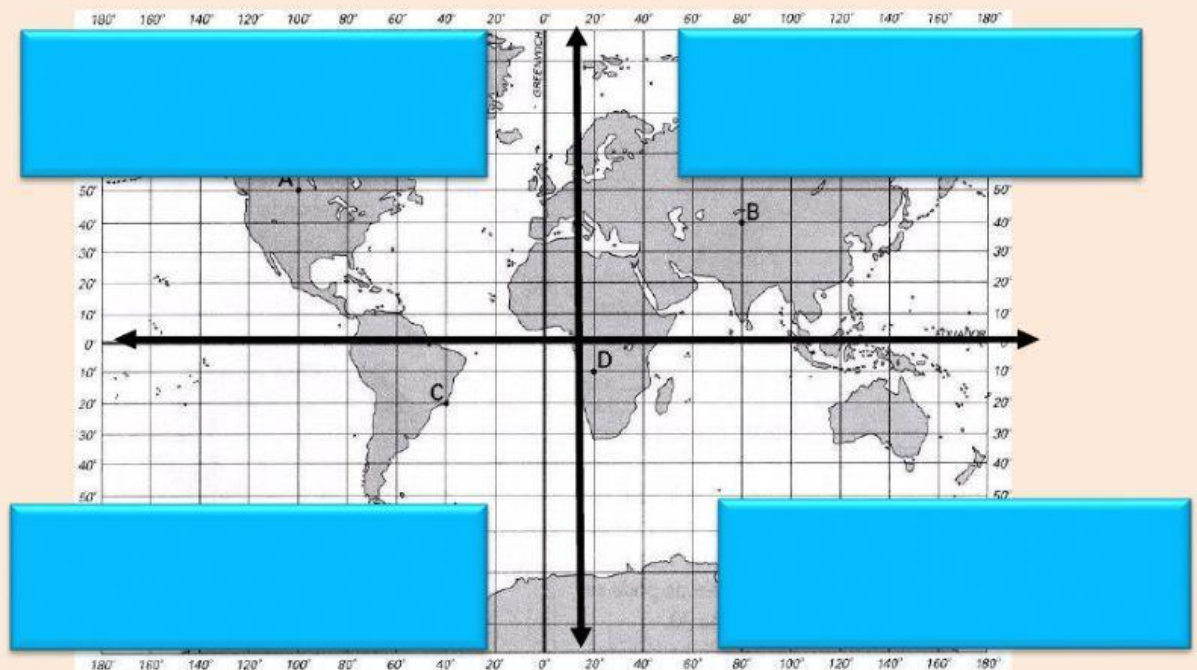


Actividad sumativa

Elementos del plano cartesiano y coordenadas por cuadrantes

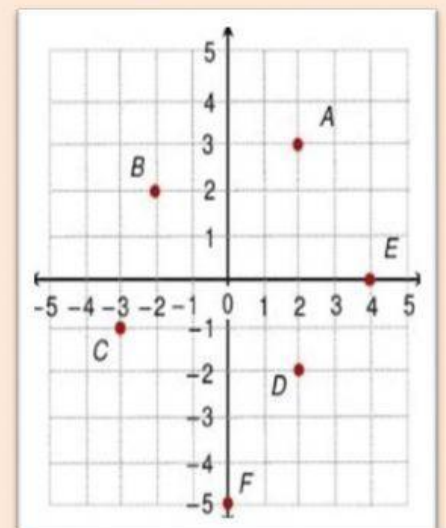
- ☞ Señale en cada sección marcada del sistema cartesiano el nombre del cuadrante indicado, (**primer cuadrante, segundo cuadrante, tercer cuadrante, cuarto cuadrante**).



Esta foto de Autor desconocido está bajo licencia [CC BY-SA](#)

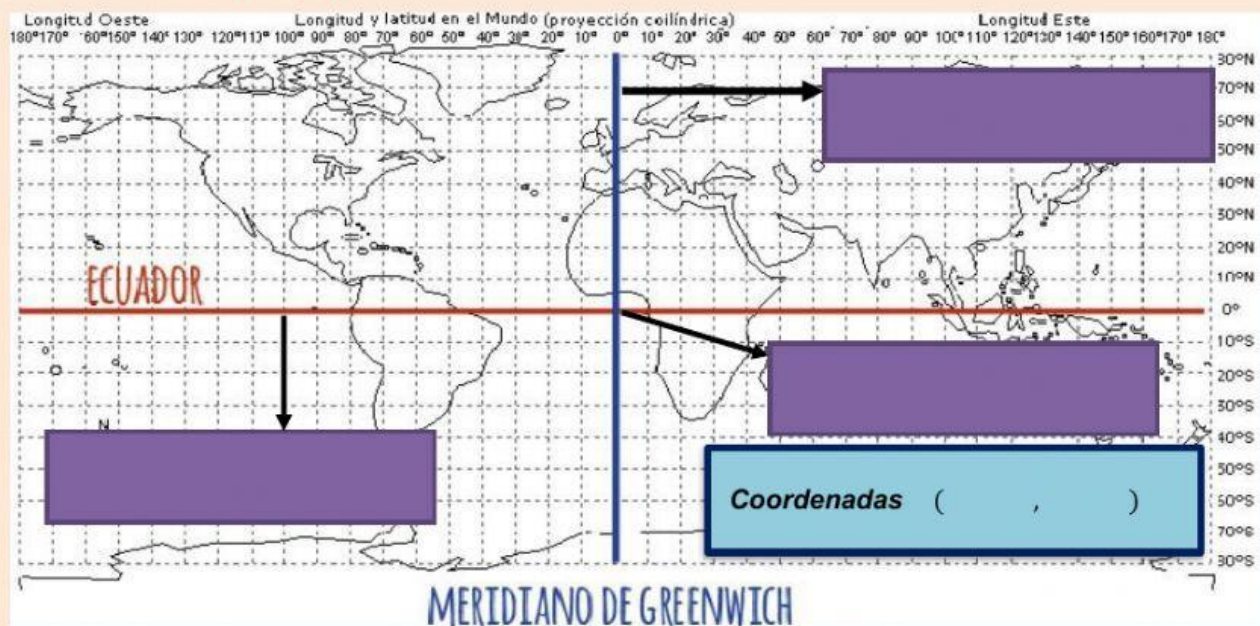
- ☞ Escribe en el espacio el cuadrante donde se ubica y las coordenadas del punto como se muestra en el ejemplo:

Punto	Cuadrante donde se ubica	Coordenadas
D	IV	$(2, -2)$ o bien $(+2, -2)$
A		(,)
C		(,)
B		(,)



Profesora Maydeé Zambrano N.

- 🕒 Señale en la imagen que se muestra cada elemento indicado (eje X o eje de abscisas, eje Y o eje de ordenadas, origen).



- 🕒 Indique las coordenadas de la ciudad solicitada. Ejemplo: Zaragoza (7, 4)

Ciudad	Coordenadas
Zaragoza	(7, 4)
Cáceres	(,)
Barcelona	(,)
Palencia	(,)
Cuenca	(,)



Esta foto de Autor desconocido está bajo licencia [CC BY-SA-NC](#)

Profesora Maydeé Zambrano N.