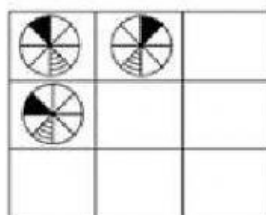
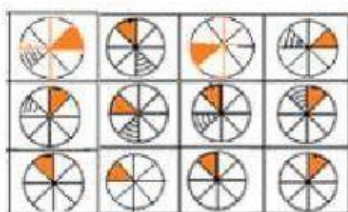


ACTIVIDAD 14 Bis

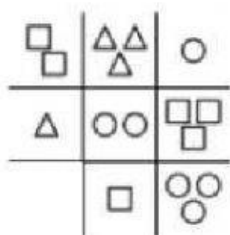
COMPLETA LOS CUADROS EN BLANCO EN LA SECUENCIA CORRECTA



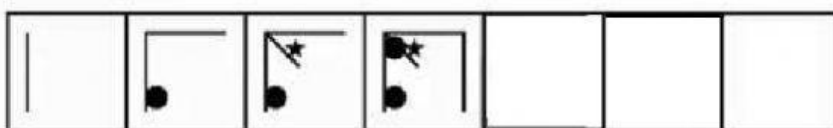
COMPLETA EL CUADRO EN BLANCO EN LA SECUENCIA CORRECTA

a) $\triangle\triangle$ e) $\square\square\square$

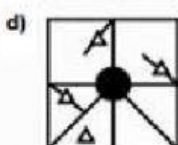
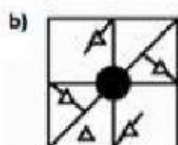
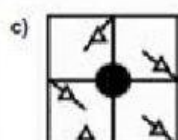
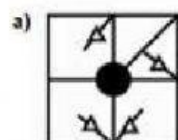
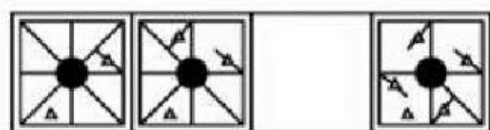
b) $\circ\circ$ d) $\triangle\triangle\triangle$





COMPLETA LOS CUADROS EN BLANCO EN LA SECUENCIA CORRECTA







COMPLETA EL CUADRO EN BLANCO EN LA SECUENCIA CORRECTA






COMPLETA LOS CUADROS EN BLANCO EN LA SECUENCIA CORRECTA






a)  c) 

b)  d) 3

| | | |
|---|---|---|
| 3 | 3 |  |
| 2 | 2 |  |
| 1 | |  |

a) 4 c) 

b)  d) 

| | | |
|---|---|---|
| • |  |  |
| 2 |  | 4 |
| |  |  |

