

Indicador de desempeño

Reconoce las diferentes clases de líneas en figuras y elementos.

Identifica los polígonos y sus elementos.

Actividad 1

Observa y escribe **V** si la oración es verdadera o **F** si es falsa.



Es una línea curva y cerrada ____



Es una línea recta y abierta ____



Está formada por líneas poligonales cerradas ____




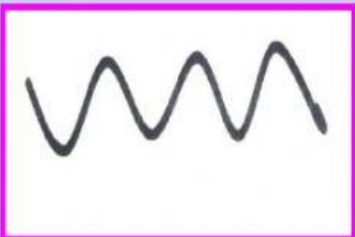

Está formado por líneas poligonales abiertas ____



Es una sola línea curva ____

Actividad 2

Arrastra el nombre hasta la imagen correspondiente.



Línea diagonal

Curva cerrada

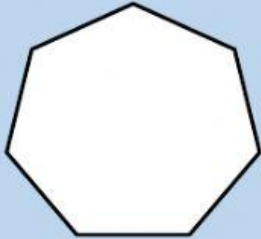
Curva abierta

Polígono de
cuatro lados

Línea recta
vertical

Actividad 3

Observa el polígono, cuenta y escribe



Lados _____

Ángulos _____

Vértices _____

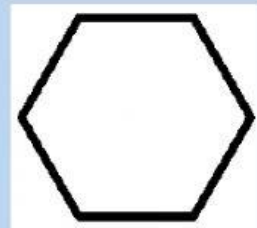
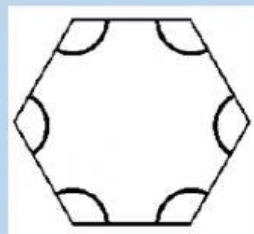
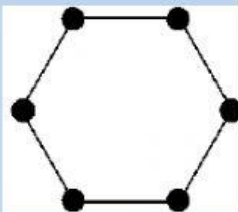
Actividad 4

Une cada palabra con el dibujo que lo representa.

Lados

Vértices

Ángulos



TERMINADO

