











1. Calcula las frecuencias del pictograma:

COLOR	CANTIDAD	TOTAL
azul	  	
rojo	 	
amarillo	    	

Cada  representa 6 carros

2. Colorea un por cada y completa el diagrama de barras según la tabla de frecuencias.

mascota	votos
Gato	4
Perro	3
Hámster	1
pez	2

