







Húzd a helyükre a mértékegységeket!

tömeg






mg    t    kg    g    g    dkg

|   |   |   |  |   |   |  |   |   |   |
|---|---|---|--|---|---|--|---|---|---|
| 1 és fél tonnás autó<br> | 1 mázsa búza<br> | - | 1 kg kenyér<br> | - | 20 dkg szalámi<br> | 3 g bors<br> | - | - | 500 mg C-vitamin<br> |
| <input type="text"/>  | <input type="text"/>  |   | <input type="text"/>   |   | <input type="text"/>  | <input type="text"/>   |   |   | <input type="text"/>  |

Skilluniverzum

hosszúság

km    dm  
mm    m  
cm


|   |   |   |   |   |   |  |
|---|---|---|---|---|---|--|
|  | - | - | kb. 1 m<br> | kb. 1 dm<br> | kb. 1 cm<br> | a ceruza hegye kb. 1 mm<br> |
| <input type="text"/>  |   |   | <input type="text"/>  | <input type="text"/>  | <input type="text"/>  | <input type="text"/>   |

Válaszd ki a helyes mértékegységet!



Ceruza hossza:

17 dm  
17 km  
17 cm  
17 m



Az afrikai elefántbika átlagos tömege:

6 mázsa    6 g  
6 kg    6 tonna

Egy elefánt ormányának hossza:

2 dm    2 km  
2 cm    2 m



Egy busz tömege:

11 t  
11 kg    11 dkg  
11 g



Egy alma tömege:

20 kg    20 dkg  
20 g    20 t

Egy busz magassága:

3 dm    3 m  
3 cm    3 km



Egy focilabda szélessége:

21 m  
21 mm    21 dm  
21 cm