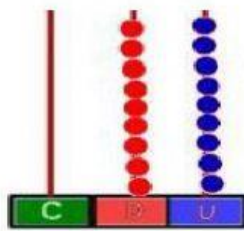
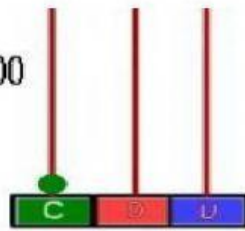


FORMANDO CENTENAS



$$99 + 1 = 100$$



cien

C	D	U
1	0	0

1. **Resuelve** las siguientes adiciones y hallarás centenas.

$$20 + 80 = \boxed{}$$

$$99 + 1 = \boxed{}$$

$$25 + 75 = \boxed{}$$

$$95 + 5 = \boxed{}$$


$$96 + 4 = \boxed{}$$

$$50 + 50 = \boxed{}$$

$$24 + 76 = \boxed{}$$

$$93 + 7 = \boxed{}$$

2. Observa y contrasta las imágenes y une por medio de flechas según corresponda.



1 centena



100 unidades



10 decenas