

ESCUELA DE EDUCACIÓN BÁSICA "EDUARDO KINGMAN"



ASIGNATURA: Estudios Sociales

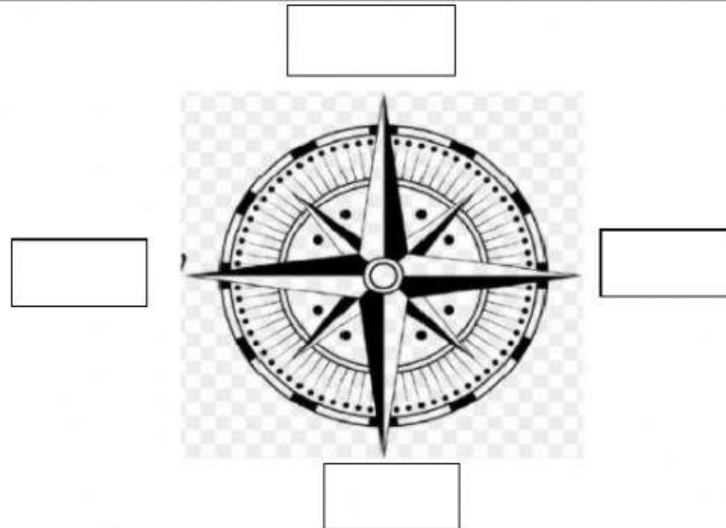
AÑO BÁSICO: 3ro "A" y "B"

NOMBRE: _____

FECHA: _____

EXÁMEN PRIMER QUIMESTRE

1.-ESCRIBE LOS PUNTOS CARDINALES EN LA ROSA DE LOS VIENTOS,



2.-ELIGE LA OPCIÓN CORRECTA

- a) La rosa de los vientos es una figura que señala los puntos
- b) Los puntos de referencia son que se pueden recordar con
- c) La formas de representación de la tierra son y
- d) El principal punto de referencia es

3.-ARRASTRA LAS SEÑALES DE TRÁNSITO Y UBIQUELAS DONDE CORRESPONDE

Reglamentación	Prevención	Información
<input type="text"/>	<input type="text"/>	<input type="text"/>
<input type="text"/>	<input type="text"/>	<input type="text"/>



4.-ESCRIBE DEBAJO DE CADA IMAGEN SI ES UN SERVICIOS PÚBLICO O PRIVADO


BANCO




BOMBEROS



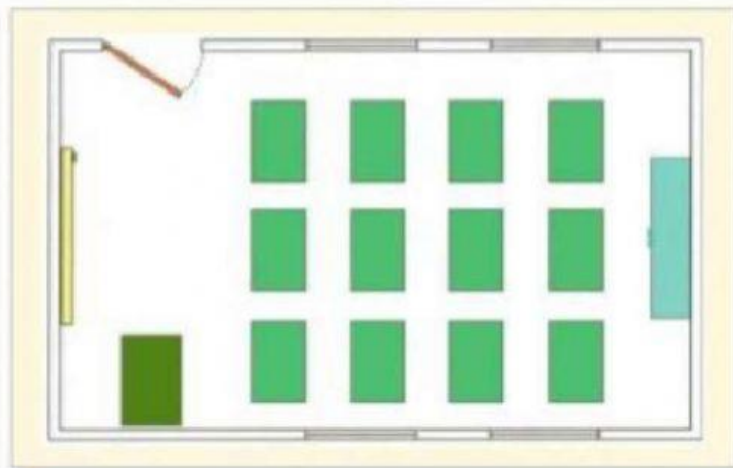
IGLESIA



COMEDOR




5.-OBSERVA EN EL PLANO Y RESPONDE LAS PREGUNTAS



- a. ¿Cuántas puertas hay?
- b. ¿Cuántas ventanas hay?
- c. ¿Cuántos estantes hay?
- d. ¿Cuántos bancos hay?

6.-ARRASTRA Y COLOCA SEGÚN CORRESPONDA LOS COLORES DEL SEMÁFORO



7.-ESCRIBE A QUE TIPO DE MAPA CORRESPONDE CADA IMAGEN



8.- LEE Y SELECCIONA CON UN SI O NO SEGÚN CORRESPONDA

a) La comunidad es un conjunto de personas que viven en un mismo lugar.	<u>SI</u>	<u>NO</u>
b) Nuestro planeta tiene 7 océanos y 5 continentes.	<u>SI</u>	<u>NO</u>
c) Los continentes son: Asia, África, América, Europa y Oceanía.	<u>SI</u>	<u>NO</u>
d) Las comunidades pueden ser: familiar, escolar, y vecinos	<u>SI</u>	<u>NO</u>