











Lunes, 28 de septiembre de 2020

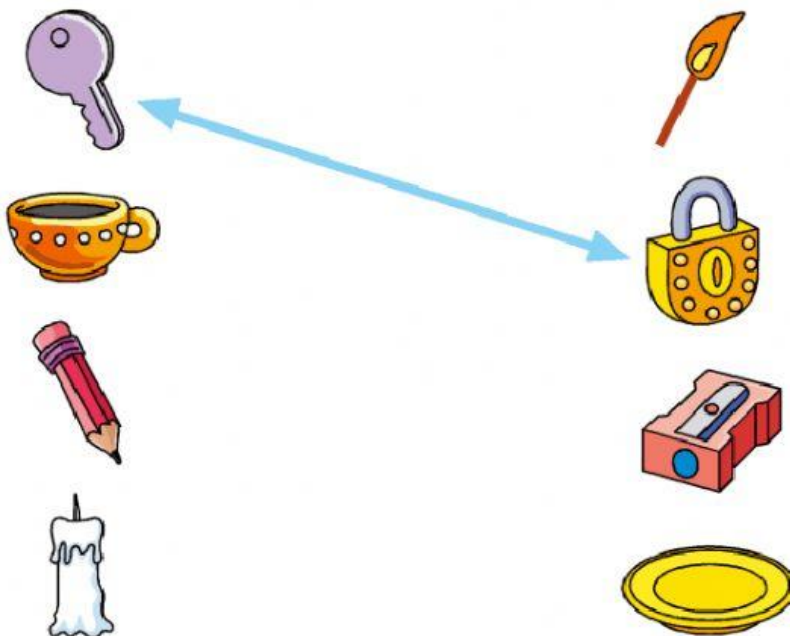
Ejercicios repaso

1. Escriba la palabra PERTENECE o NO PERTENECE según indique el conjunto.

		<input type="text"/>	F		<input type="text"/>	F
		<input type="text"/>	F		<input type="text"/>	F
		<input type="text"/>	V		<input type="text"/>	V
		<input type="text"/>	V		<input type="text"/>	F

2. Seleccione si los siguientes elementos corresponden o no al conjunto.

Ejemplo: llave y candado



3. Realice las siguientes sumas con llevadas de dos cifras.

$$\begin{array}{r} 65 \\ + 48 \\ \hline \end{array}$$

$$\begin{array}{r} 78 \\ + 23 \\ \hline \end{array}$$

$$\begin{array}{r} 45 \\ + 65 \\ \hline \end{array}$$

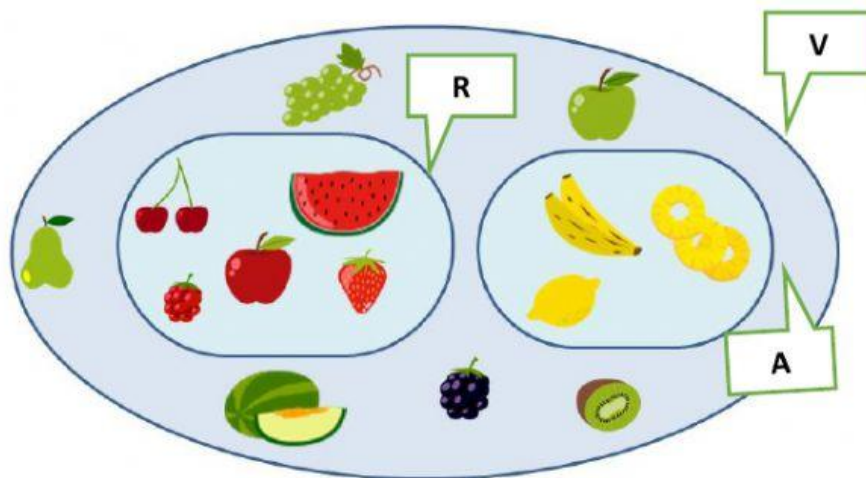
4. Realice las siguientes restas de dos cifras.

$$\begin{array}{r} 53 \\ - 41 \\ \hline \end{array}$$

$$\begin{array}{r} 37 \\ - 16 \\ \hline \end{array}$$

$$\begin{array}{r} 28 \\ - 25 \\ \hline \end{array}$$

5. Observe la imagen de conjuntos y subconjuntos y responda.



- ¿Cuántos subconjuntos encontramos en el conjunto V? _____
- ¿Frutas de qué color tiene el subconjunto R? _____
- ¿Cuántas frutas hay en el subconjunto A? _____