
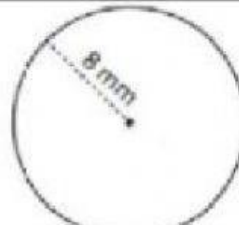
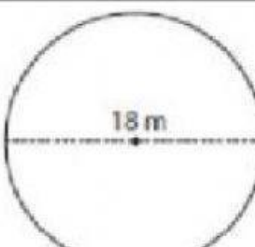
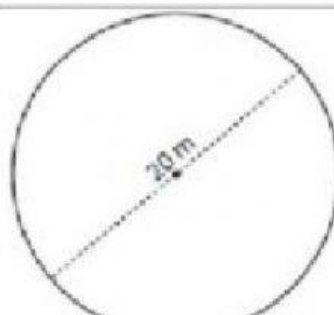
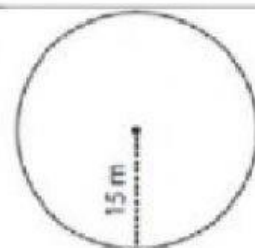
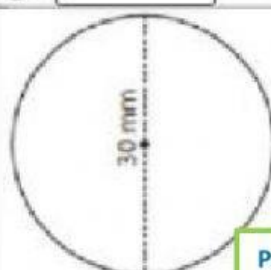


Cálculo del perímetro o circunferencia

- 1.- Escribe el valor del radio y del diámetro en cada ejercicio.
2. Calcula el perímetro de cada ejercicio, recuerda que se obtiene al multiplicar el diámetro por el valor de π (3.14).
3. Recuerda escribir la unidad de medida adecuada.



 <p>5 cm</p> <p>P=</p> <p>r=</p> <p>d=</p>	 <p>8 mm</p> <p>P=</p> <p>r=</p> <p>d=</p>	 <p>18 m</p> <p>P=</p> <p>r=</p> <p>d=</p>
 <p>20 m</p> <p>P=</p> <p>r=</p> <p>d=</p>	 <p>15 m</p> <p>P=</p> <p>r=</p> <p>d=</p>	 <p>30 mm</p> <p>P=</p> <p>r=</p> <p>d=</p>