

División exacta


Nombre: _____

Grado: _____

Fecha: _____


- 1 Lee cada situación. Luego, dibuja los elementos que corresponden.

Repartir, en partes iguales, 4 panes en 2 platos.




* ¿Cuántos panes quedan en cada plato? _____

Repartir, en partes iguales, 12 manzanas en 2 cajas.



* ¿Cuántas manzanas quedan en cada caja? _____

- 2 Une, con una línea, cada dibujo con la división correspondiente.



$$16 \div 4 = 4$$

$$15 \div 5 = 3$$



$$10 \div 2 = 5$$

$$9 \div 3 = 3$$

