
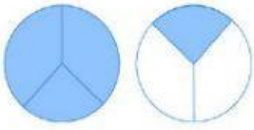

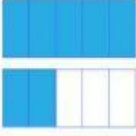

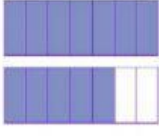
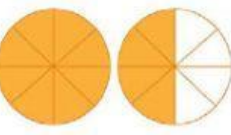




# Fracciones mayores que la unidad

Nombre:

Grado:  Fecha:

1 Escribe la fracción representada.

	$\frac{5}{4}$		
			
			

2 Escribe mayor, igual o menor que la unidad, según el caso.

$\frac{3}{3}$ _____	$\frac{8}{3}$ _____
$\frac{3}{15}$ _____	$\frac{3}{2}$ _____
$\frac{32}{32}$ _____	$\frac{53}{49}$ _____

3 Representa cada fracción.

$\frac{6}{5}$	$\frac{8}{5}$	$\frac{9}{5}$
