

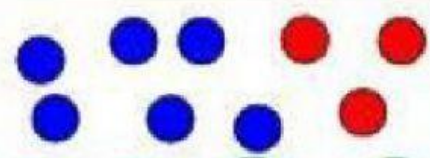
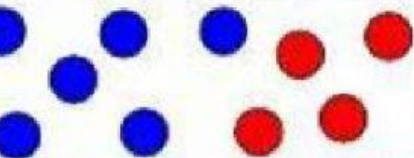






Cuenta las fichas azules y las rojas. Coloca en el primer cuadro cuantas fichas azules hay. Luego anota en el segundo cuadro, cuantas fichas rojas son y su valor. Por último suma las cantidades, escribe el total en el tercer recuadro. **Las fichas azules valen 1 unidad las rojas 1 decena=10 unidades.** Sigue el ejemplo


$$\boxed{6} + \boxed{10} = \boxed{16}$$

$$\boxed{} + \boxed{} = \boxed{}$$

$$\boxed{} + \boxed{} = \boxed{}$$

$$\boxed{} + \boxed{} = \boxed{}$$

$$\boxed{} + \boxed{} = \boxed{}$$

$$\boxed{} + \boxed{} = \boxed{}$$

$$\boxed{} + \boxed{} = \boxed{}$$

$$\boxed{} + \boxed{} = \boxed{}$$