
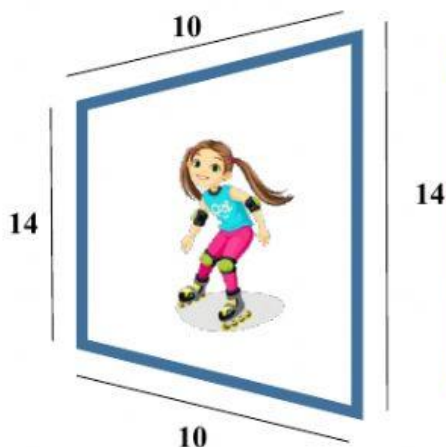


Resolvemos problemas sobre perímetros

Selecciona la respuesta correcta en cada problema:

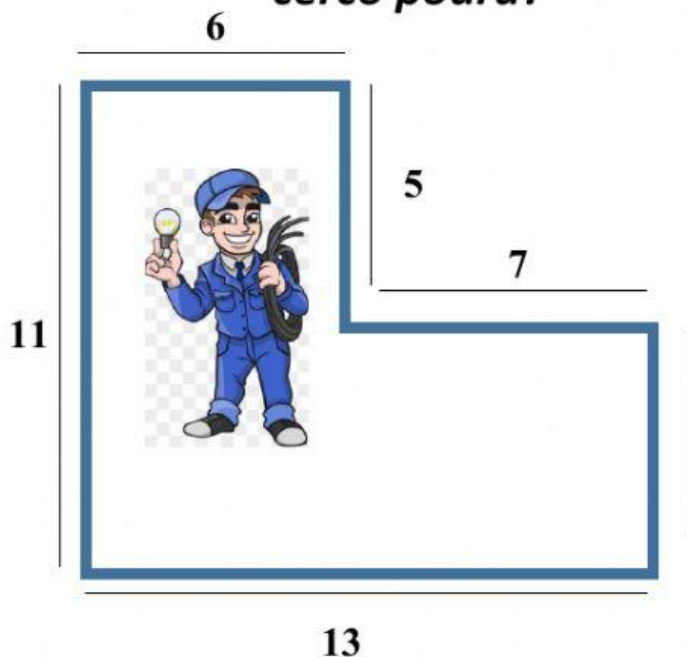


1. Rosalía da una vuelta por el parque en sus patines. ¿Cuántos metros recorrió Rosalía?



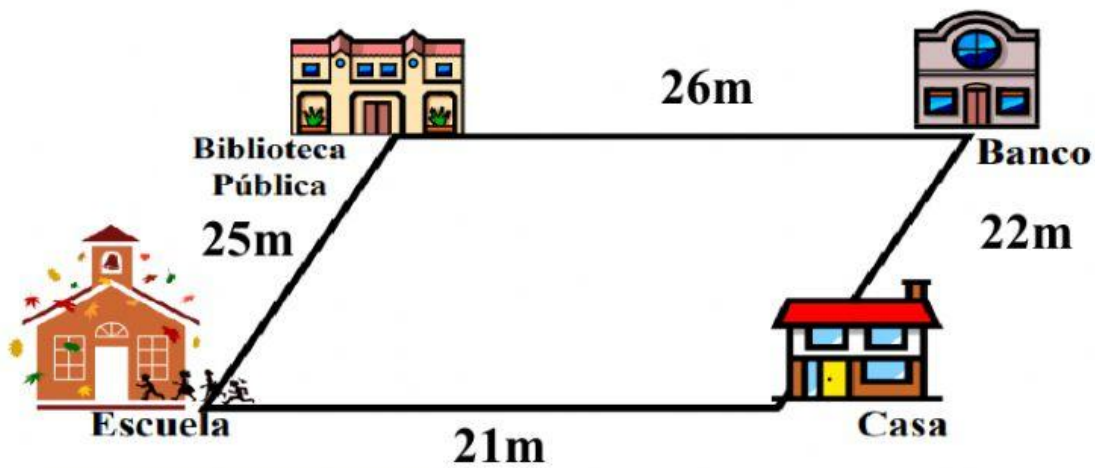
- Rosalía recorrió 48m.
- Rosalía recorrió 40m
- Rosalía recorrió 49m.

2. Ricardo desea colocar un cerco eléctrico en el perímetro de su casa. ¿Cuántos metros de cerco podrá?



- Ricardo pondrá 38m de cerco.
- Ricardo pondrá 48m de cerco.
- Ricardo pondrá 46m de cerco.

3. Karen realiza el siguiente recorrido caminando, ¿Cuántos metros caminó Karen hoy?



- Karen caminó 90 metros.
- Karen caminó 96 metros.
- Karen caminó 94 metros.

