



GEOMETRIA

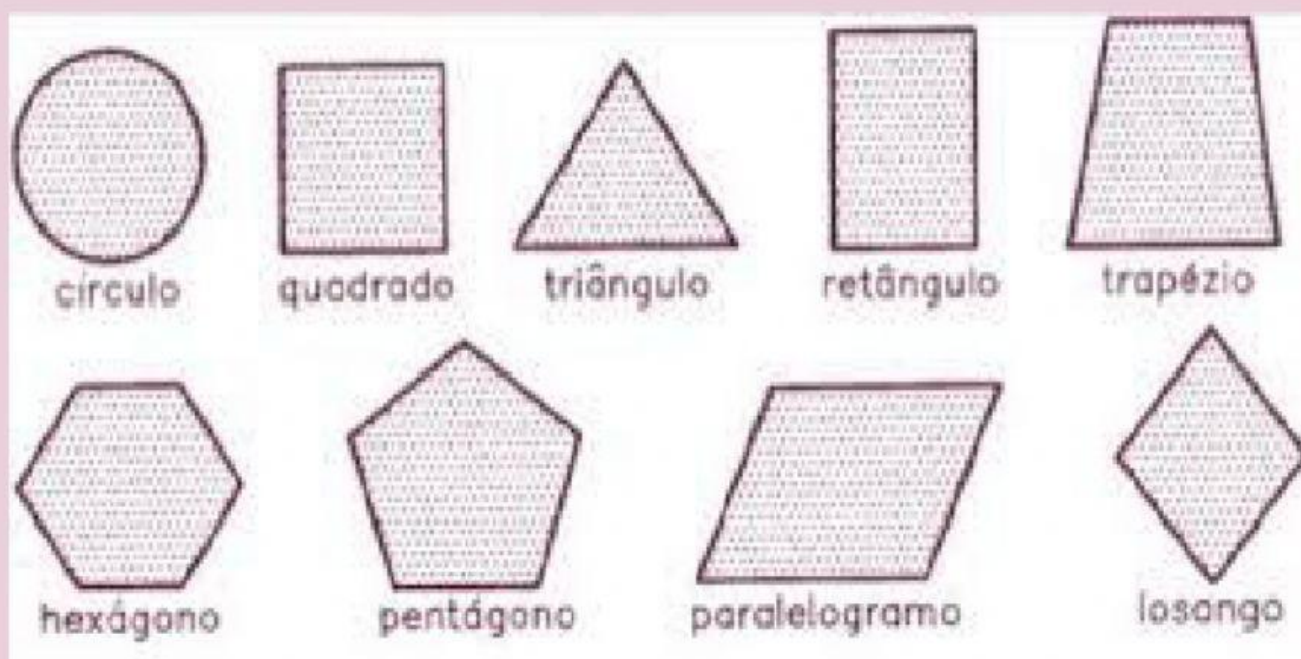
FIGURAS GEOMÉTRICAS PLANAS

NOME: _____

ASSISTA O VÍDEO ABAIXO COM ATENÇÃO!!!!



OBSERVE O NOME DAS FIGURAS GEOMÉTRICAS ABAIXO:



AGORA QUE VOCÊ JÁ ASSISTIU O VÍDEO E ESTUDOU AS FIGURAS FAÇA A ATIVIDADE DA PRÓXIMA PÁGINA:



1) O QUADRADO POSSUI _____ LADOS IGUAIS.



2) O TRIÂNGULO POSSUI _____ LADOS IGUAIS.



3) O RETÂNGULO POSSUI _____ LADOS.

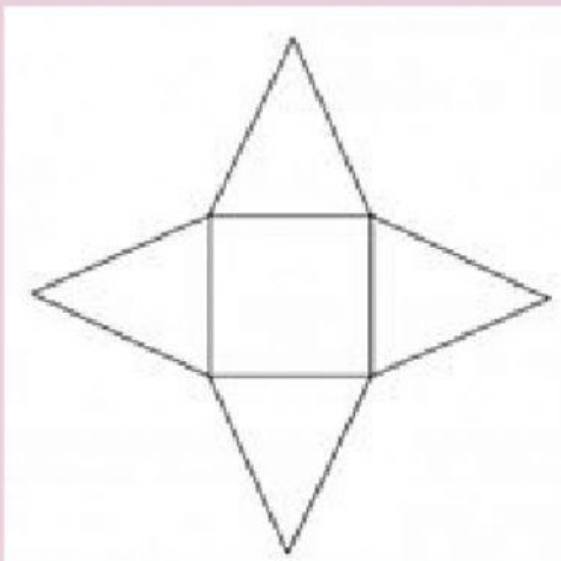


4) O TRAPÉZIO POSSUI _____ LADOS.



5) O PARALELOGRAMO POSSUI _____ LADOS.

6) OBSERVE A FIGURA ABAIXO E MARQUE A ALTERNATIVA CORRETA.



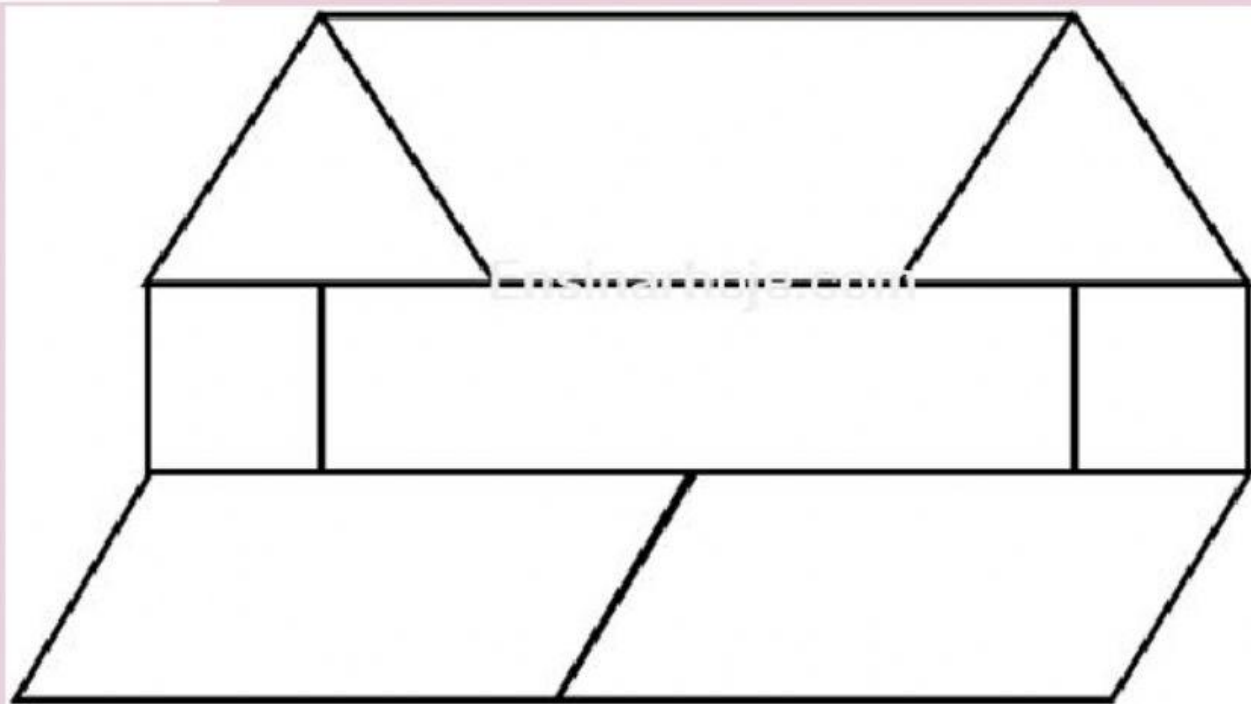
() O quadrado possui 3 lados e o triângulo possui 4 lados.

() O quadrado e o triângulo tem a mesma quantidade de lados.

() O quadrado possui 4 lados e o triângulo possui 3 lados.

() O triângulo possui mais lados que o quadrado.

7) Caio começou a desenhar o seguinte mosaico.



Quantas figuras geométricas planas, Caio desenhou na construção desse mosaico?

(___) Triângulo

(___) Retângulo

(___) Trapézio

(___) Quadrados

(___) Paralelogramos

(___) Círculo



**ATÉ A PRÓXIMA AULA!!!
BOA ATIVIDADE!!!!!!**