

FICHAS DE REPASO/ESTUDIO: PREPARO EL CONTROL

TEMA 3

La historia de al-Ándalus

1 Completa las oraciones con la palabra correcta. Después, ordena cronológicamente los acontecimientos. Escribe 1, 2, 3, 4, 5.

- ☐ Los _____ derrotaron a los visigodos en la batalla de _____ y ocuparon casi toda la Península y las islas Baleares.
- ☐ El último territorio musulmán en la Península fue el reino _____.
- ☐ Al principio al-Ándalus fue un _____, que dependía del califa de Damasco.
- ☐ En la batalla de _____ en 1212, los musulmanes fueron derrotados por un ejército integrado por castellanos, navarros y aragoneses.
- ☐ En el siglo x, al-Ándalus se convirtió en un _____.

2 ¿Qué diferencia existe entre un emirato y un califato?

3 Observa el mapa y responde a las preguntas.



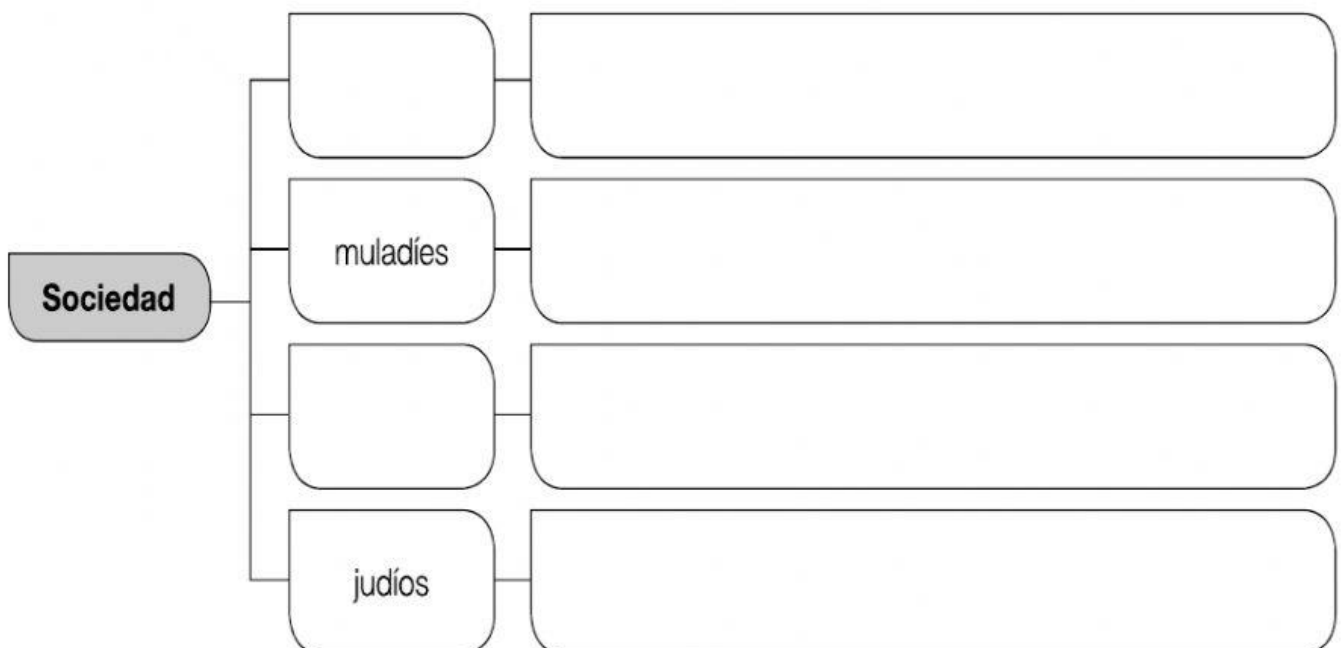
• ¿Qué dos territorios están representados?

• ¿Cómo aparece el territorio musulmán: unido o dividido? _____

• ¿A qué periodo de la historia de al-Ándalus pertenece este mapa?

1 Enumera las cinco obligaciones que debe cumplir un musulmán.

2 Completa el esquema de la sociedad en al-Ándalus.



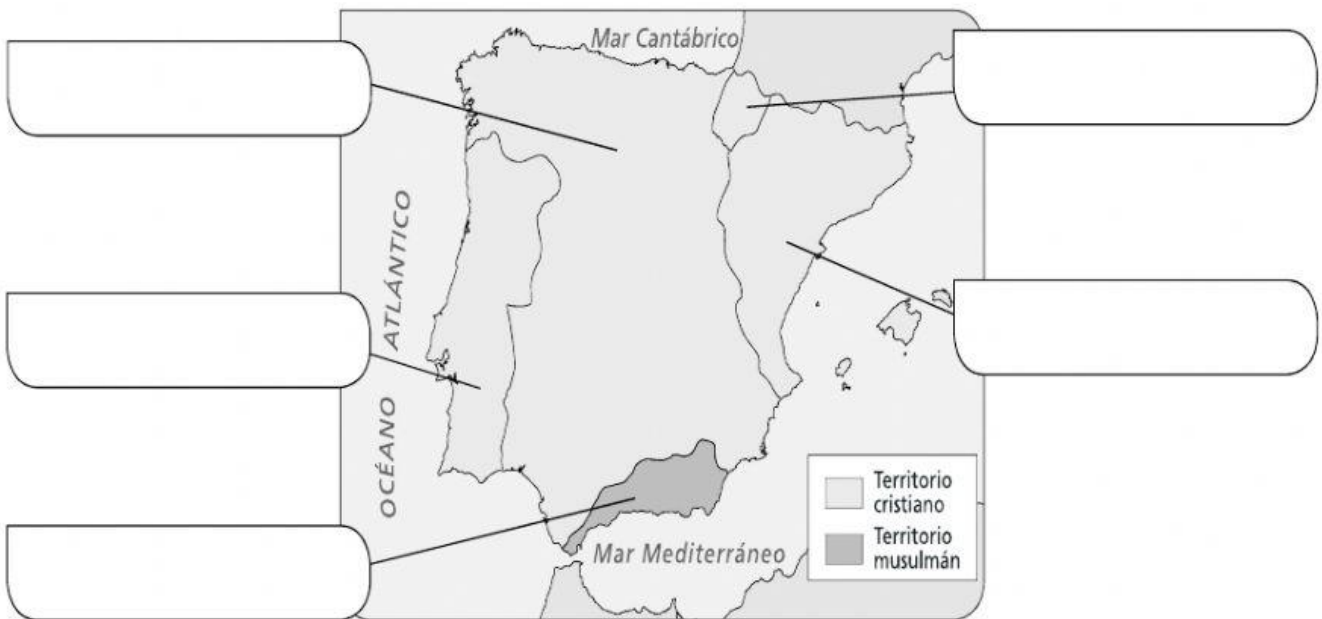
3 Responde a las preguntas.

- ¿Qué rasgos de la época andalusí conservamos en nuestra cultura?

- ¿Por qué se caracterizó la arquitectura árabe?

1 ¿Qué supuso la batalla de Las Navas de Tolosa? ¿En qué año se produjo?

2 Observa el mapa y escribe el nombre de los reinos que había en la península ibérica y en Baleares en el siglo xv.



3 Observa el mapa de la actividad anterior y responde.

- ¿Qué territorio ocupaba mayor extensión, el cristiano o el musulmán? _____
- ¿En qué año se conquistó el último territorio musulmán? ¿Quién lo hizo? _____



4 ¿Qué diferencia existe entre la Reconquista y la repoblación?

El arte en los reinos cristianos

1 Escribe cómo son estos elementos en las iglesias y catedrales románicas y góticas.

	Arte románico	Arte gótico
Arcos		
Muros		
Ventanas		
Pinturas		

2 ¿Qué edificio es románico y cuál es gótico? Explica por qué lo sabes.



A: _____

B: _____
