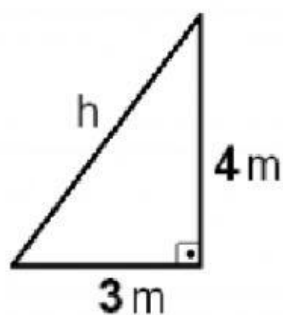
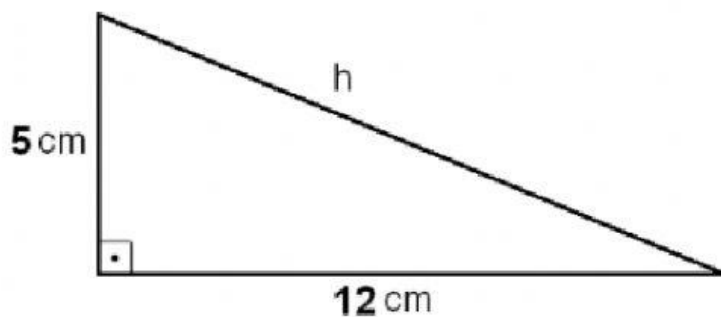


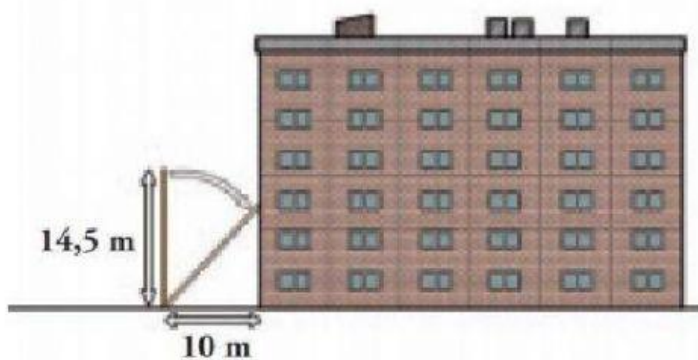
Ejercicio 1 Halla la medida, en metros, de la hipotenusa de un triángulo rectángulo, cuyos catetos miden 3 y 4 metros.



Ejercicio 2 Halla la medida, en centímetros, de la hipotenusa de un triángulo rectángulo, cuyos catetos miden 5 y 12 centímetros.



Ejercicio 3 Una escalera de bomberos de 14,5 metros de longitud se apoya en la fachada de un edificio, poniendo el pie de la escalera a 10 metros del edificio. ¿Qué altura, en metros, alcanza la escalera?



Actividad Sugerida # 27 Pág. 129

Incisos 2, 3 y 4