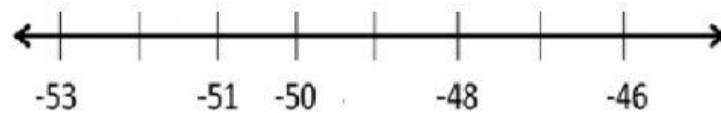


## NÚMEROS ENTEROS: CONJUNTO Z

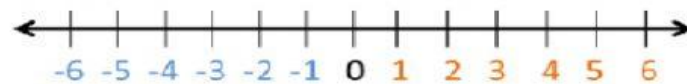
1. ESCRIBA MATEMATICAMENTE CON NÚMEROS ENTEROS LAS SIGUIENTES SITUACIONES QUE LAS REPRESENTARÍAN :

- El nivel del mar está 6 metros por encima de su nivel 0:
- Carlos debe 50 dólares y debe cancelarlos hoy
- María baja 3 pisos al estacionamiento de su edificio donde vive
- El agua ha descendido 5 metros

2. Identifique los números faltantes en la recta numérica:



3. Observe La siguiente recta numérica y determine qué número se encuentra 4 unidades a la derecha de -1

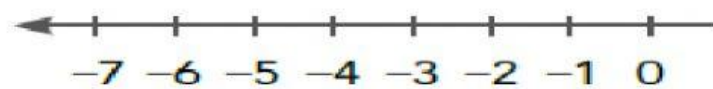


4. Si al medio día en la ciudad de Cuenca se registra a una temperatura de  $18^{\circ}\text{C}$ . Si al anochecer se produce un descenso de  $9^{\circ}\text{C}$  ¿Qué temperatura es la final?

5. Complete tomando en cuenta el número -3 como referencia

Antecesor:

Sucesor:



\_\_\_\_\_