


Nome: _____ Turma: _____



ATIVIDADE 2

OS PROBLEMAS DA FAMÍLIA GORGONZOLA

Desenho: Ana Carolina



4. GRUDI



Grudi, a irmã de Picles, também tem bichos de estimação e são dez. Dez adoráveis gatos.

Certa vez Picles desconfiou que os odiosos gatos de Grudi estavam roubando as bolachas dos seus zimundinhos. A irmã jurava que não, e ele jurava que sim. Para provar que tinha razão, Picles pintou as patas de todos os gatos com tinta de carimbo.

No dia seguinte, de manhã cedo, ele foi conferir. As bolachas tinham sido roubadas, mas não havia pegadas de gatos.



Picles não se conformou, achou que tinha sido enganado. Foi examinar os gatos da irmã e viu que todos eles estavam usando sapatinhos de boneca. Ridículo! Picles ficou uma fera e foi pedir explicações a ela.

Quantos sapatinhos Grudi usou para calçar os gatos?

5. CÃO PULGUENTO

O outro membro da família Gorgonzola que tem bicho de estimação é o tio Jonho. Seu bicho de estimação é o Leo.

Tio Jonho tem longas conversas com ele:

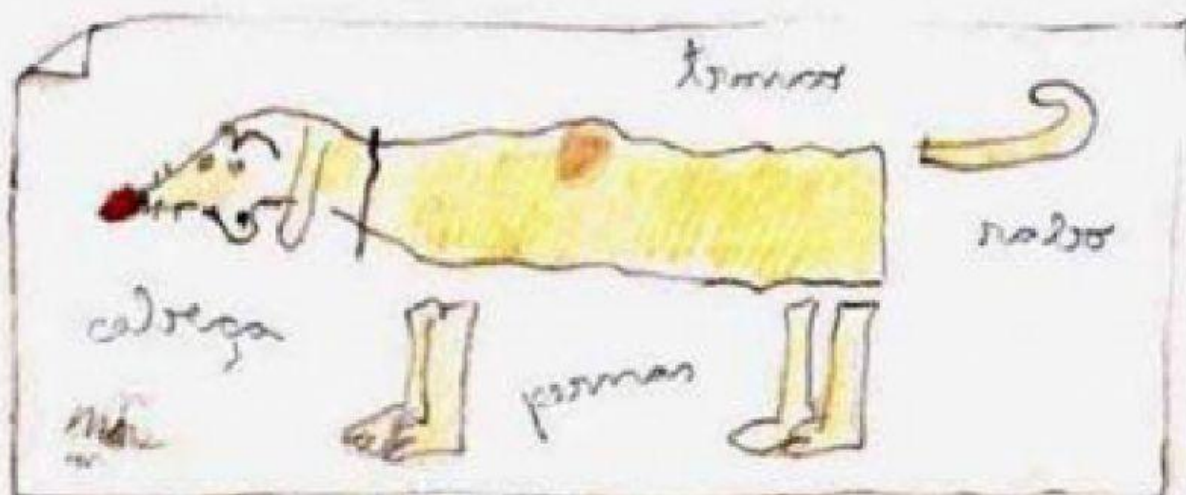
– Leo, você já ouviu falar em raiz quadrada? Será que existe mesmo?

O cachorro solta um grunhido e tio Jonho interpreta:

– Se existir, deve ser de uma árvore quadrada, cheia de folhas quadradas, com frutos quadrados...

É assim, eles se dão muito bem, conversam o dia todo.





Um dia tio Jonho anunciou pra família que ia ter um congresso de pulgas no Leo. O assunto ia ser: *Estratégias para não se perder no meio de um monte de pêlos.*

Tio Jonho estava preocupado com a organização do congresso, não queria confusões.

Fez um mapa caprichado com as partes do Leo: cabeça, tronco, pernas e rabo. Na cabeça caberiam 10 pulgas, no tronco outras 10, em cada perna caberiam 3 pulgas, e no rabo mais 2.

Tio Jonho é ruinzinho de contas e não conseguia calcular quantas pulgas caberiam em seu cão.

Ajude o tio Jonho a calcular a quantidade de pulgas que caberiam no seu cão.

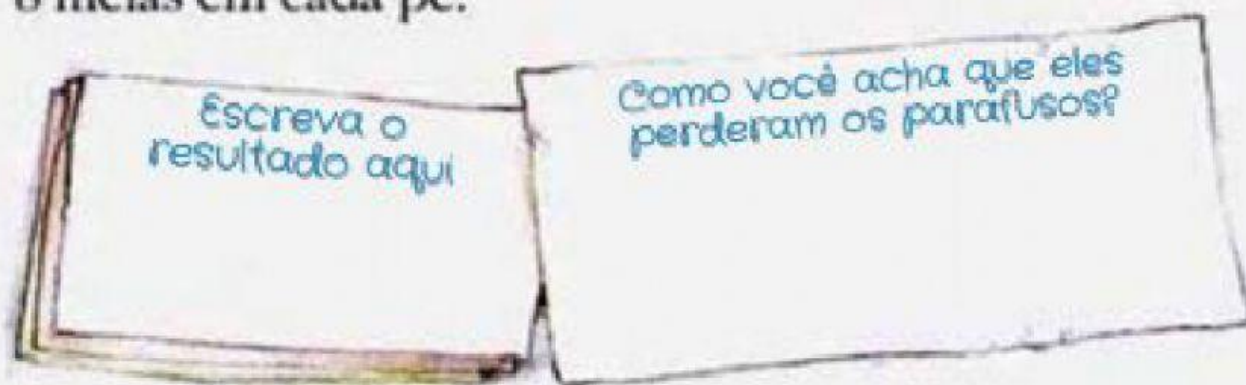


6. PARAFUSOS



O tio Jonho tem dois amigos: o Juvenal e o Tobias.

O Juvenal, certa vez, perdeu uns parafusos da cabeça e foi até a padaria pelado. Chegando lá, encontrou o amigo Tobias, que também tinha perdido uns parafusos, mas, ao contrário, foi com um exagero de roupa. Vestia 3 cuecas, 4 calças, 5 camisetas, 3 malhas, 2 casacos e 8 meias em cada pé.



Quantas peças de roupa estava vestindo Tobias?