


Evaluación mensual primero

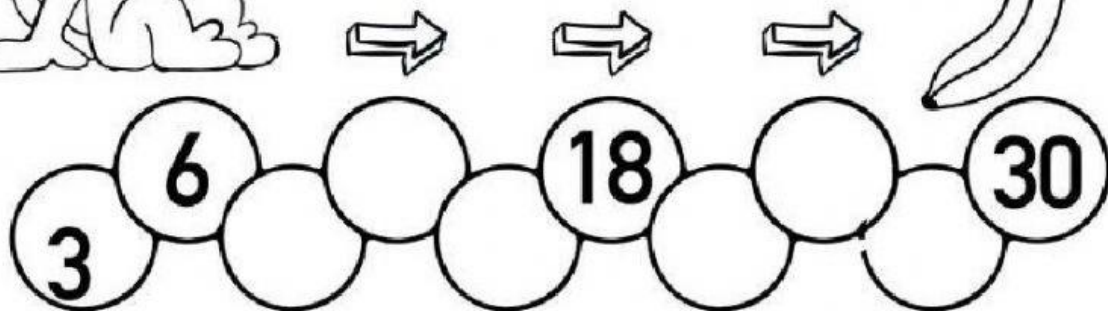
1. Completa cada multiplicación de la tabla del 5.

$5 \times 1 = 5$	$5 \times \square = 20$	$5 \times \square = 35$
$5 \times 2 = \square$	$5 \times 5 = \square$	$5 \times \square = 40$
$5 \times 3 = \square$	$5 \times \square = 30$	$5 \times 9 = \square$


2. Completa la secuencia



Ayuda al mono a llegar a su comida completando la serie del 3.



Ayuda al oso a llegar a su comida completando la serie del 4.



3. Realiza las siguientes multiplicaciones

3×9

8×8

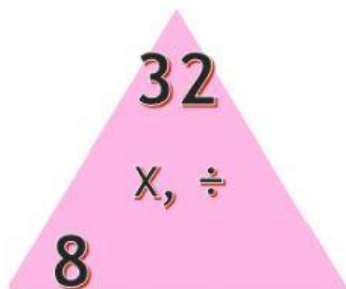
2×7

5×8

6×7

1×7

4. Completa cada familia multiplicativa

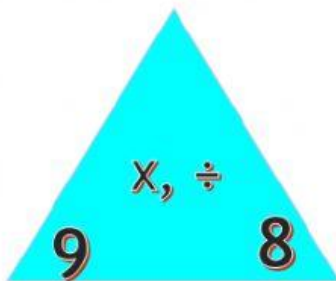


$8 \times \quad = 32$

$4 \times 8 =$

$\quad \div 4 = 8$

$32 \div 8 =$



$9 \times \quad = 72$

$8 \times 9 =$

$72 \div \quad = 9$

$\quad \div 9 = 8$

5. Resuelve los siguientes problemas

a) Hay **3** cajas. En cada caja hay **6** sandías. ¿Cuántas sandías hay en total?

Planteamiento:

Respuesta:

b) Hay **2** pasteles en cada caja. Si hay **6** cajas, ¿cuántos pasteles hay en total?

Planteamiento:

Respuesta:

c) En una caja hay **7** latas. Si hay **9** cajas, ¿cuántas latas hay en total?

Planteamiento:

Respuesta:
