


AGRUPAMOS PARA MULTIPLICAR



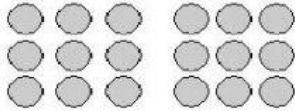
Hay ____ grupos de ____.

Hay $3 \times 6 =$ ____ cuadrados.



Hay ____ grupos de ____.

Hay ____ x ____ = ____ triángulos



Hay ____ grupos de ____.

Hay ____ x ____ = ____ círculos.



Hay ____ grupos de ____.

Hay ____ x ____ = ____ hojas.



Hay ____ grupos de ____.


Hay ____ x ____ = ____ estrellas.



Hay ____ grupos de ____.

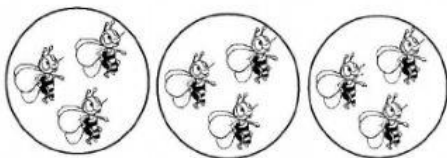
Hay ____ x ____ = ____ tarros.

Aprendemos a multiplicar. Cuenta los objetos de cada grupo y completa.



____ veces ____ es ____

____ x ____ = ____



____ veces ____ es ____

____ x ____ = ____