
	Colegio Adventista de Concepción Asig: Historia, Geografía y Ciencias. Prof. Lidia Saavedra Villagrán Prof. Diferencial Laura Concha Olivares	GUÍA DE APRENDIZAJE 2° Año "Chile en el Mundo"	
Nombre:			Viernes 25 de septiembre
OA 8: Clasificar y caracterizar algunos paisajes de Chile según su ubicación en la zona norte, centro y sur del país, observando imágenes, utilizando diversas fuentes y un vocabulario geográfico adecuado (océano, río, cordillera de los Andes y de la Costa, desierto, valle, costa, volcán, archipiélago, isla, fiordo, lago, ciudad y pueblo, entre otros			
HABILIDADES:			

1.- De acuerdo al mapa escribe V o F, (MAYÚSCULA) según corresponda:


☐

Una ventaja del planisferio es que se ve todo el planeta.

☐

Una ventaja del globo terráqueo es que tiene una forma similar a la forma de la Tierra. (geoide)

☐

El Planisferio tiene la forma plana de la Tierra.

☐

Ambas formas de mostrar la Tierra tienen ventajas y desventajas.

2.- Completa tu mapa realizando las siguientes actividades:

a) Completa la rosa de los vientos, llevando los símbolos a su lugar.

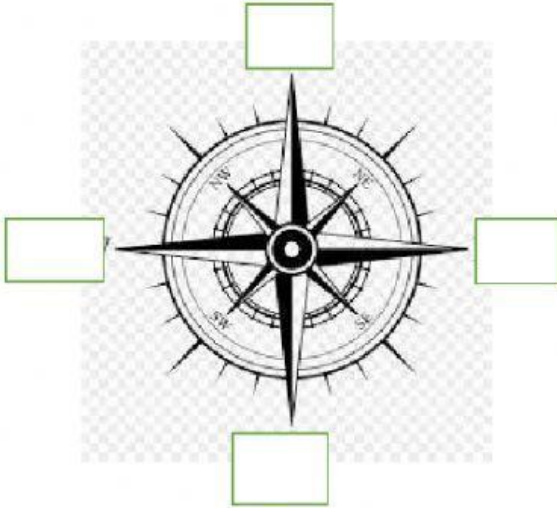
N

S

E O

- b) Toma Chile y lo dejas sobre Chile.
- c) Deja el buque Esmeralda en el Océano Pacífico.
- d) Deja el nombre del país donde corresponda.
- e) Deja el nombre de los países vecinos en su lugar.

3.-



América del Sur política

Vicens Vives



Argentina


Perú

Bolivia



3.- Zonas naturales de Chile.

Deja el paisaje correspondiente sobre la descripción correspondiente:



Zona Norte: se extiende desde el límite norte de Chile hasta el río Aconcagua: se divide en Norte grande y Norte chico.

Zona Central: se extiende desde el río Aconcagua hasta el río Biobío

Zona Sur: se extiende desde el río Biobío hasta el golfo Corcovado.

Zona Austral: abarca desde el golfo Corcovado hasta el extremo sur de Chile.

4. Deja en cada espacio el paisaje solicitado:

Desierto	Bosque

Cordillera	Costa



5.- Observa la sala de clases, luego lleva el nombre de tu compañero de acuerdo a la descripción.

Paula está a la derecha de Mathías.

Emilia está a la derecha de Paula.

Sofía está a la izquierda de Cristóbal.

Máximo está a la derecha de Cristóbal.

Steven está entre Amaro y Agustín.

Franco Paula Emilia Sofía Máximo Steven Amaro.

