

# MATEMÁTICA– ATIVIDADES DIVERSAS

**1. ORDENE OS NÚMEROS COLOCANDO NA ORDEM DECRESCENTE (DO MAIOR PARA O MENOR)**

36	25	9	48	17	33
----	----	---	----	----	----

--	--	--	--	--	--

**2. ORDENE OS NÚMEROS COLOCANDO NA ORDEM CRESCENTE (DO MENOR PARA O MAIOR)**

50	24	8	15	31	49
----	----	---	----	----	----

--	--	--	--	--	--

**3. COMPLETE COM O ANTECESSOR E SUCESSOR.**


	39			29	
--	----	--	--	----	--

	25			17	
--	----	--	--	----	--

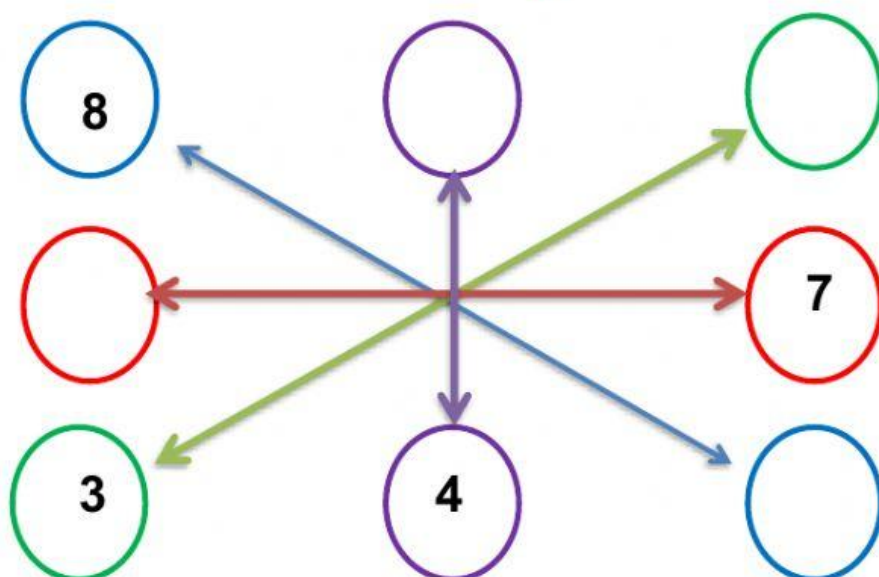
	10			53	
--	----	--	--	----	--

	44			48	
--	----	--	--	----	--

4. COMPLETE A CRUZADA ESCRREVENDO, POR EXTENSO, OS NÚMEROS DE 0 A 10



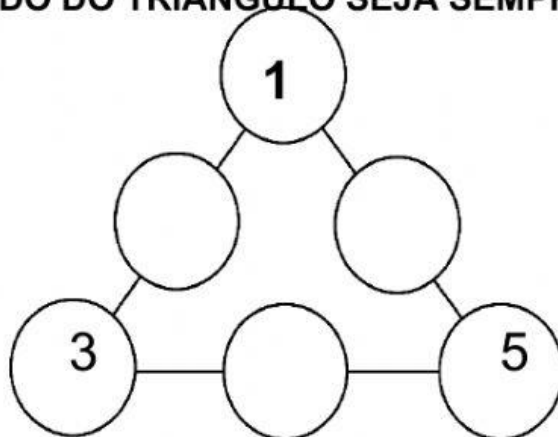
5. QUAIS NUMERAIS FALTAM PARA QUE O RESULTADO DA SOMA EM CADA RETA SEJA SEMPRE 9 ?



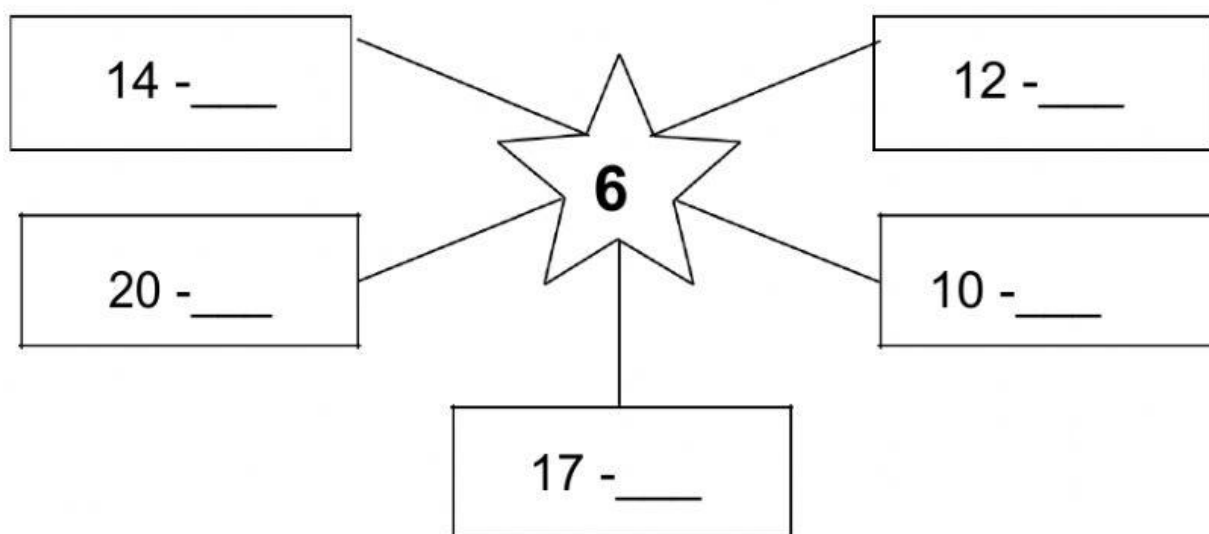
6. QUE NÚMERO FALTA PARA QUE A SOMA EM TODAS AS DIREÇÕES SEJA SEMPRE 15? COMPLETE.

<b>2</b>	<b>9</b>	<b>4</b>
<b>7</b>		<b>3</b>
<b>6</b>	<b>1</b>	<b>8</b>

7. COMPLETE COM OS NUMERAIS 5, 3 OU 1 PARA QUE A SOMA EM CADA LADO DO TRIÂNGULO SEJA SEMPRE 9.



8. ENCONTRE O NÚMERO CUJO RESULTADO É IGUAL A 6:



**9. OBSERVE E RESPONDA:**

MARIA TEM:



PAULO TEM:



QUEM TEM O MAIOR VALOR? \_\_\_\_\_

QUANTO MARIA TEM?

( ) 7 REAIS      ( ) 8 REAIS      ( ) 12 REAIS      ( ) 13 REAIS

QUANTO PAULO TEM?

( ) 7 REAIS      ( ) 8 REAIS      ( ) 12 REAIS      ( ) 13 REAIS

QUAL O VALOR QUE OS DOIS TÊM JUNTOS? \_\_\_\_\_

**10. CINCO NOTAS DE**



**É IGUAL AO VALOR DE:**

( ) 5 REAIS      ( ) 10 REAIS      ( ) 15 REAIS

**11, TODO MÊS OS IRMÃOS JOÃO E RAFAELA GANHAM MESADA. SUA MÃE DEU 20 REAIS PARA DIVIDIR ENTRE OS DOIS. COM QUANTO CADA IRMÃO VAI FICAR?**



( ) 1 REAL      ( ) 5 REAIS      ( ) 10 REAIS