



Name : _____ Class: _____ Date: _____

SD ISLAM SABILILLAH MALANG
Full Day School Unggul dan Rejukan Beraraf Internasional


C, Theme 3 : Makanan Sehat

No 01

Student's Activities
5th Grade 1st Semester

Berdo'alah sebelum mengerjakan.

SISTEM PENCERNAAN PADA HEWAN



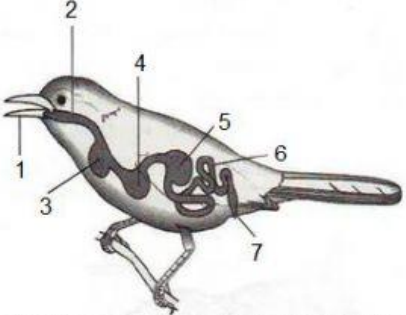
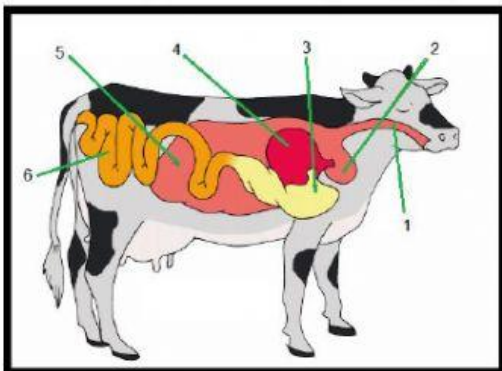
Struktur alat pencernaan pada hewan berbeda-beda, tergantung pada tinggi rendahnya tingkat organisasi sel hewan tersebut serta jenis makanannya. Pada hewan invertebrata alat pencernaan makanan umumnya masih sederhana, dilakukan secara fagositosis/intrasel dan ekstrasel, sedangkan pada hewan-hewan vertebrata sudah memiliki alat pencernaan yang sempurna, dilakukan secara ekstrasel.

► YANG AKU BUTUHKAN

Torso pencernaan sapi dan burung
Gambar pencernaan burung

► YANG AKU LAKUKAN

1. Perhatikan torso pencernaan sapi dan burung!
2. Lengkapi tabel berikut!

Gambar pencernaan hewan	Keterangan	Fungsi
 <p>Alat pencernaan pada BURUNG</p>		
 <p>Alat pencernaan pada Hewan Memamah Biak</p>		

► **EVALUASI**

1. Apa fungsi tembolok dan empedal pada burung?

.....

2. Mengapa sapi, kerbau, dan kambing disebut sebagai hewan pemamah biak?

.....

3. Apakah susunan gigi pada hewan pemakan daging sama dengan susunan gigi hewan pemakan tumbuhan? Jelaskan jawabanmu!

.....

4. Ada berapa jumlah lambung pada hewan pemamah biak? Sebutkan!

.....

5. Bagaimana proses pencernaan pada hewan pemamah biak?

.....

.....

.....

**** Selamat mengerjakan dan teliti kembali sebelum dikumpulkan ****

Teacher Sign:	Score:	Parents Sign:
---------------	--------	---------------