

Organ Gerak Hewan dan Manusia

A. Perhatikan video di bawah ini!



B. Letakkan organ gerak hewan secara benar dengan cara menariknya!
(drag and drop)

Hewan	Organ Gerak
-------	-------------



kaki

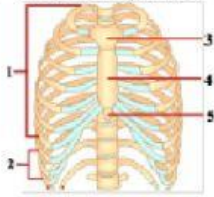
sayap

sirip

Otot perut

C. Pilihlah jawaban yang tepat! (multiple choice)

1. Perhatikan gambar berikut!



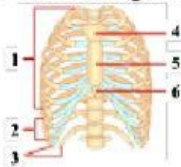
Pada gambar tersebut, tulang rusuk sejati dan tulang dada ditunjukkan oleh nomor

- a. 1 dan 4
 - b. 2 dan 3
 - c. 3 dan 5
 - d. 4 dan 5
2. Pernyataan berikut yang benar mengenai otot polos adalah
- a. bekerja tanpa kesadaran dan mudah lelah
 - b. bekerja tanpa kesadaran dan tidak mudah lelah
 - c. bekerja dengan kesadaran dan mudah lelah
 - d. bekerja dengan kesadaran dan tidak mudah lelah

D. Jawablah dengan tepat! (fill in the blank)

1. Bagian tulang tengkorak yang dapat digerakkan adalah tulang

2. Perhatikan gambar berikut!

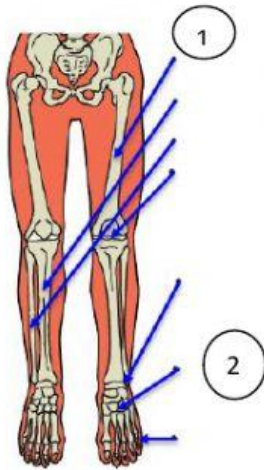


Tulang rusuk melayang ditunjukkan oleh nomor

E. Benar atau salah pernyataan berikut! (true or false)

- 1. **B-S** Susunan tulang-tulang yang saling berhubungan akan membentuk rangka.
- 2. **B-S** Alat gerak aves adalah sirip.

F. Pilihlah nama tulang yang sesuai! (drop down)



1.

2.

G. Tariklah garis pada pasangan yang sesuai! (matching)

Tulang

Memberikan fleksibilitas dan pergerakan pada tempatnya

Sendi

Tempat melekatnya otot