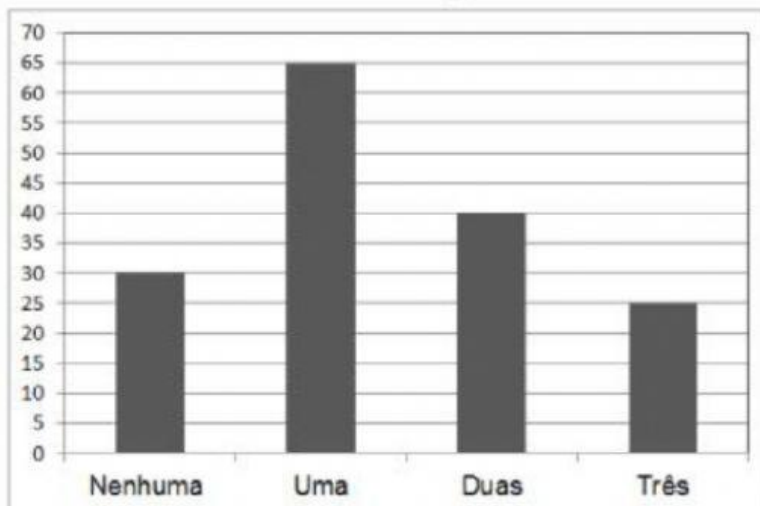


Nome: _____

Série: _____ Data: _____

1. Uma nutricionista fez uma pesquisa para saber a quantidade de fruta consumida no dia por essas pessoas. Veja o resultado no gráfico:

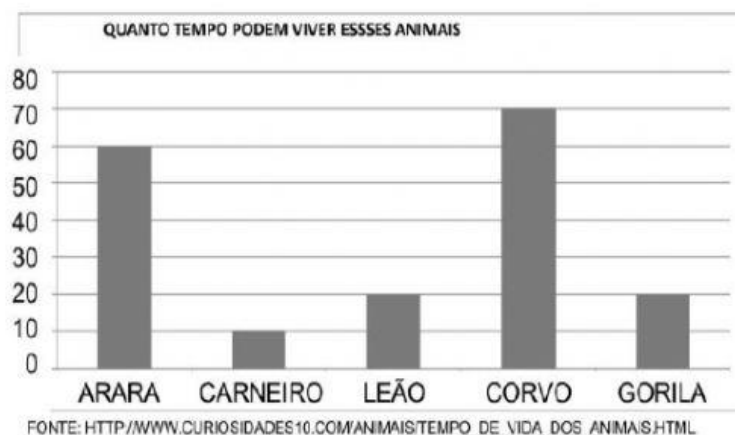
QUANTIDADE DE FRUTAS DIÁRIAS



Quantas pessoas consomem fruta duas vezes ao dia?

- A) 25
- B) 30
- C) 40
- D) 65

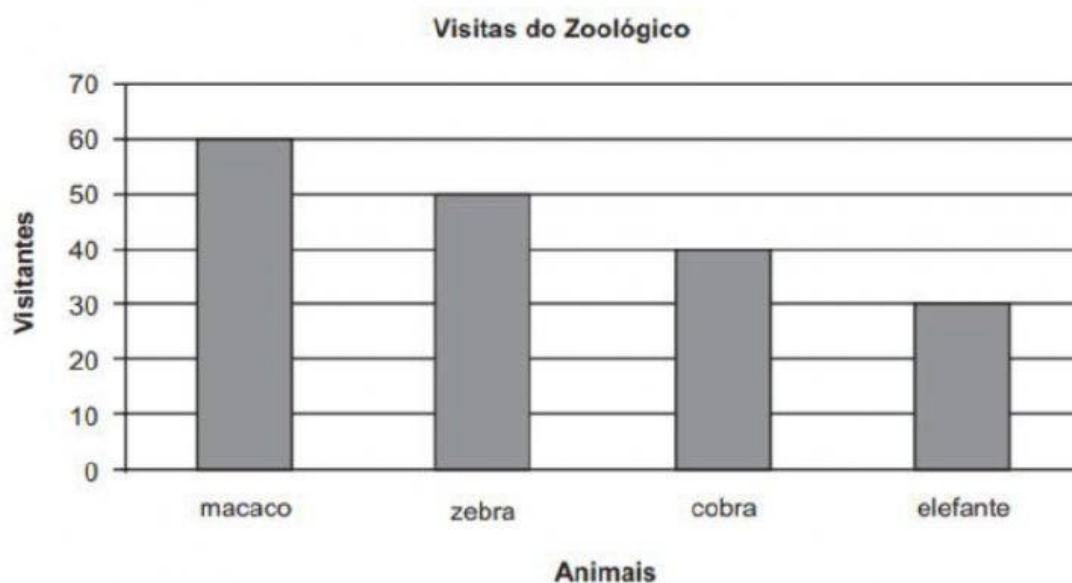
2. Veja o gráfico abaixo que apresenta o tempo de vida de alguns animais:



Qual animal vive por mais tempo?

- A) Arara
- B) Carneiro
- C) Corvo
- D) Gorila

3) O gráfico abaixo mostra a quantidade de pessoas que visitaram alguns animais de um zoológico.



De acordo com esse gráfico, quantas pessoas visitaram a zebra?

- A) 60
- B) 50
- C) 40
- D) 30