


Nome: _____

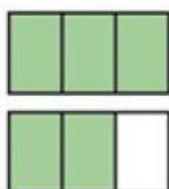
Série: _____ Data: _____

1. Qual das figuras abaixo representa a fração três inteiros e seis sétimos?


a)



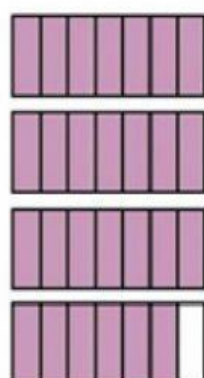
b)



c)



d)



2. No campeonato de vôlei misto organizado pela escola de um determinado município, o time campeão contava com quatro jogadores, onde cada jogador receberá uma fração para colocar na camiseta, conforme mostra a imagem abaixo.



Alice

Sara

Jorge

Henrique



$$\frac{1}{2}$$

$$\frac{2}{5}$$

$$\frac{3}{5}$$

$$\frac{5}{6}$$



Qual dos jogadores possui a camisa cuja numeração equivale ao número decimal 0,6?

a) Alice.

b) Sara.

c) Jorge.

d) Henrique.
